

3年

算数

長い長さの<sup>あらわ</sup>表し方

3年 組

名前

①①～⑦の( )に当てはまる答えを書きましょう。

- ① 2 m 50 cm は ( ) cm
- ② 370 cm は ( ) m ( ) cm
- ③ 4900 m は ( ) km ( ) m
- ④ 2 km 90 m は ( ) m
- ⑤ 1235 m は ( ) km ( ) m
- ⑥ 3 m は ( ) の3つ分の長さ
- ⑦ 8 km は ( ) の8つ分の長さ



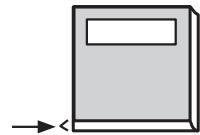
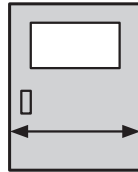
1 m = 100 cm  
1 km = 1000 m



1050 m は  
km m  
1 0 5 0  
1 km 50 m

②①～⑤の( )に当てはまる長さのたんいを書きましょう。

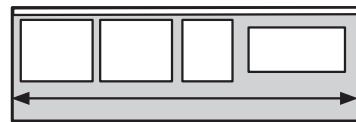
- ① 教室のドアの ② 教科書の  
はば 89 ( ) あつさ 7 ( )



- ③ バケツのまわりの長さ 62 ( ) 5 ( )



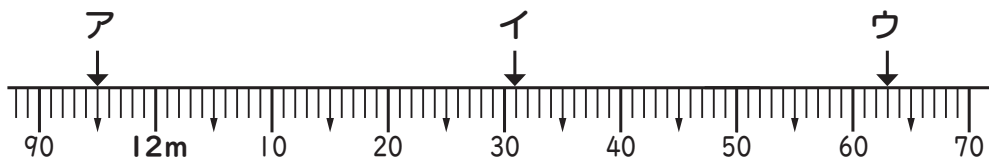
- ④ けいじ板の長さ 3 ( ) 90 ( )



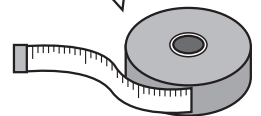
- ⑤ 自動車<sup>どう</sup>が1時間で走る道のり 60 ( )



③ まきじゃくの<sup>あらわ</sup>ア・イ・ウのめもりが表す長さを( )に書きましょう。  
また、アからウまでの長さを( )に書きましょう。



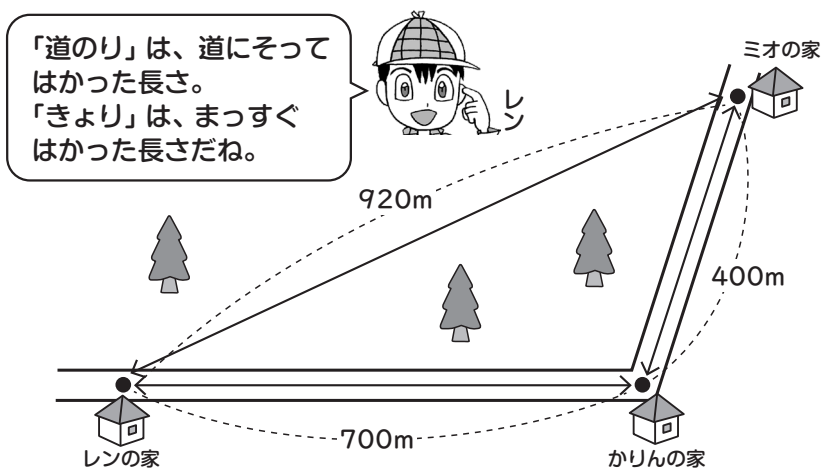
ものさしと同じように読んでね。



ア( ) イ( ) ウ( ) ア～ウ( )

④ 右の図を見て、①～③の( )に答えを書きましょう。

- ① レンの家からかりんの家までの道のりは( )mです。
- ② レンの家からミオの家までのきよりは( )mです。
- ③ レンの家からミオの家までの道のりは( )mで、( )km ( )mです。



「道のり」は、道にそって  
はかった長さ。  
「きよ」は、まっすぐ  
はかった長さだね。

