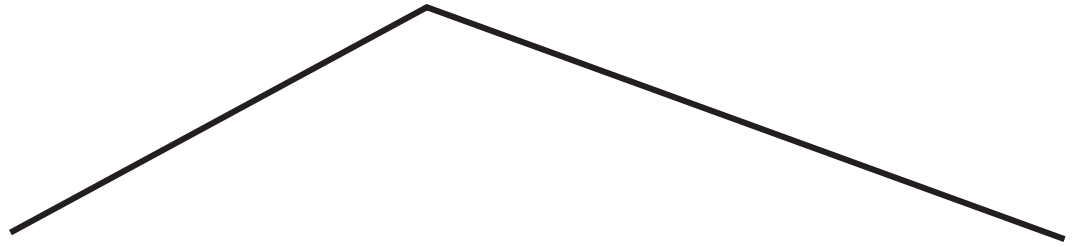
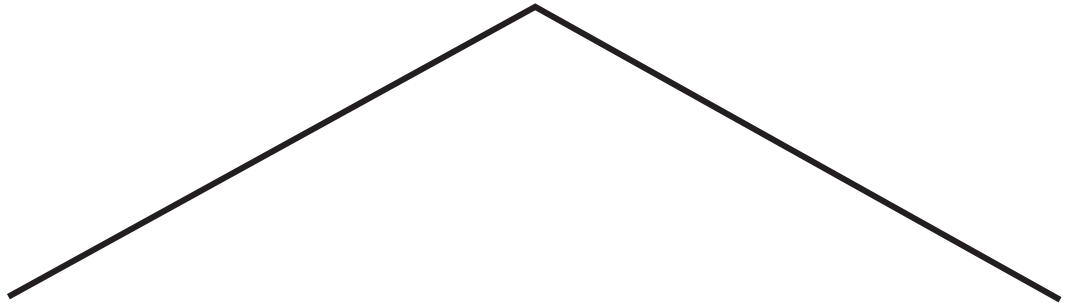


レンたちが ^{せん}線を かいたよ。
いちばん ^{なが}長い ^{せん}線を かいたのは だれかな？


★それぞれの ^{せん}線の ^{なが}長さを じょうぎで はかって ^{けいさん}計算しよう。
^{せん}線が いちばん ^{なが}長い 人を ○で かこんでね。



$$\square \text{ cm } \square \text{ mm} + \square \text{ cm} = \square \text{ cm } \square \text{ mm}$$



$$\square \text{ cm} + \square \text{ cm} = \square \text{ cm}$$



$$\square \text{ cm } \square \text{ mm} + \square \text{ cm } \square \text{ mm} = \square \text{ cm } \square \text{ mm}$$