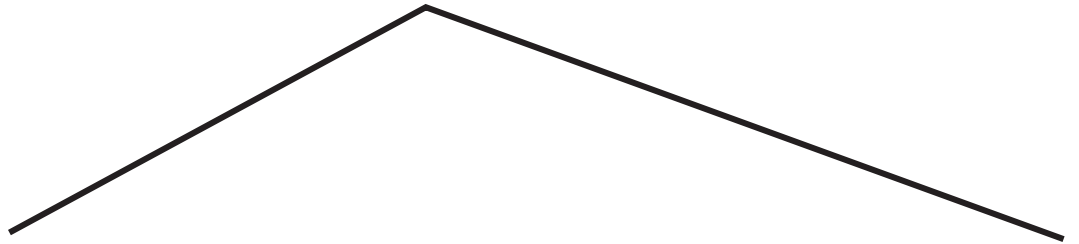


二年

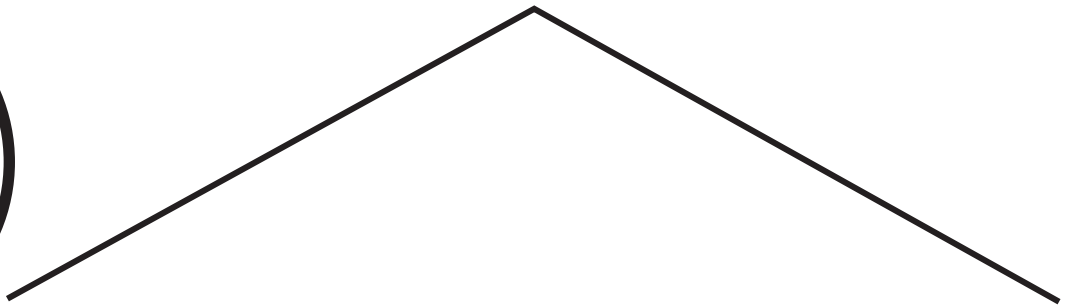
算数 さんずう	なが 長さ	二年	くみ 組	名前 まえ
------------	----------	----	---------	----------

レンたちが ^{せん}線を かいたよ。
いちばん ^{なが}長い ^{せん}線を かいたのは だれかな？


★それぞれの ^{せん}線の ^{なが}長さを じょうぎで はかって ^{けいさん}計算しよう。
^{せん}線が いちばん ^{なが}長い 人を ○で かこんでね。



$$6 \text{ cm } 3 \text{ mm} + 9 \text{ cm} = 15 \text{ cm } 3 \text{ mm}$$



$$8 \text{ cm} + 8 \text{ cm} = 16 \text{ cm}$$



$$11 \text{ cm } 4 \text{ mm} + 4 \text{ cm } 4 \text{ mm} = 15 \text{ cm } 8 \text{ mm}$$