

いちねん

さんすう ひきざん

いちねん くみ

なまえ




かりんのおじいさんのいえでは、
にわとりをたくさんかっているよ。

かりん



★えとえにあうもんだいとしきをそれぞれせんで
むすぼう。むすんだら、けいさんのこたえを□にかいてね。

※とんかが
おおきいほうがおすだよ。



にわとりが
10わいます。
そのうち、おすは
8わです。
めすはなんわ
いるでしょう。

おすのにわとりが
6わいます。
めすのにわとりが
4わいます。
ちがいは
なんわでしょう。

にわとりが
10わいました。
そのうち3わが
こやにはいると、
のこりは
なんわでしょう。

●
 $6 - 4 = \square$

●
 $10 - 3 = \square$

●
 $10 - 8 = \square$