

いちねん

さんすう たしざん

いちねん くみ


なまえ

レンの うちでは、3つの すいそうで きんぎょを たくさん かって いるよ。

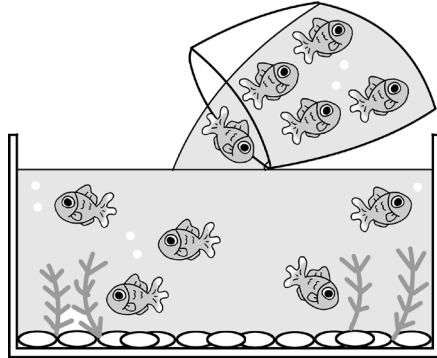


★えと えに あう もんだいと しきを それぞれ せんで むすぼう。むすんだら、けいさんの こたえを □に かいてね。

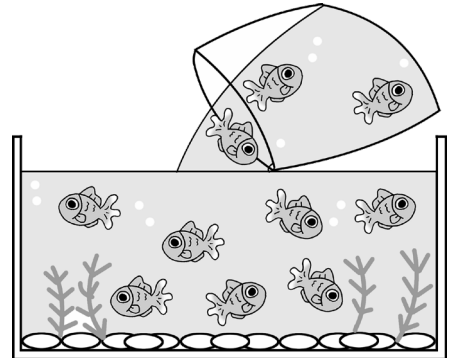
※体が黒いのが でめきんだよ。



●



●



●

きんぎょが 7ひき いました。そこへ 3ひき たしました。きんぎょは なんびき になったでしょう。

●

ふつうの きんぎょが 6ひき います。でめきんが 4ひき います。きんぎょは ぜんぶで なんびき いるでしょう。

●

きんぎょが 5ひき いました。そこへ 5ひき たしました。きんぎょは なんびき になったでしょう。

●

●  
 $5 + 5 = \square$

●  
 $7 + 3 = \square$

●  
 $6 + 4 = \square$