

いちねん

さんすう	ひきざん	いちねん	なまえ
		くみ	

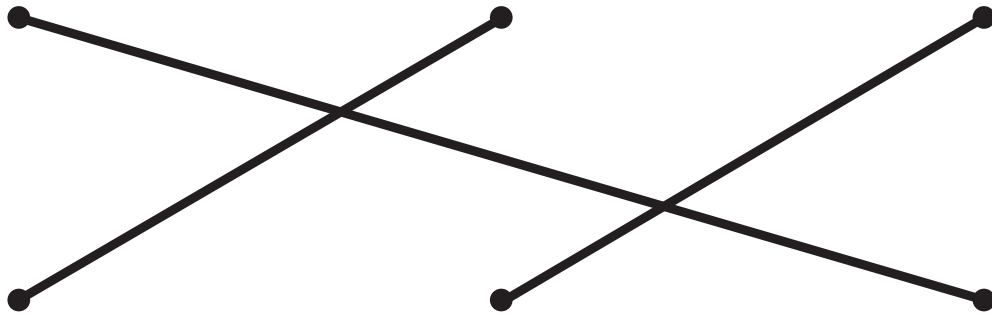



かりんのおじいさんのいえでは、
にわとりをたくさん かって いるよ。

かりん



★えと えに あう もんだいと しきを それぞれ せんで
むすぼう。むすんだら、けいさんの こたえを □に かいてね。

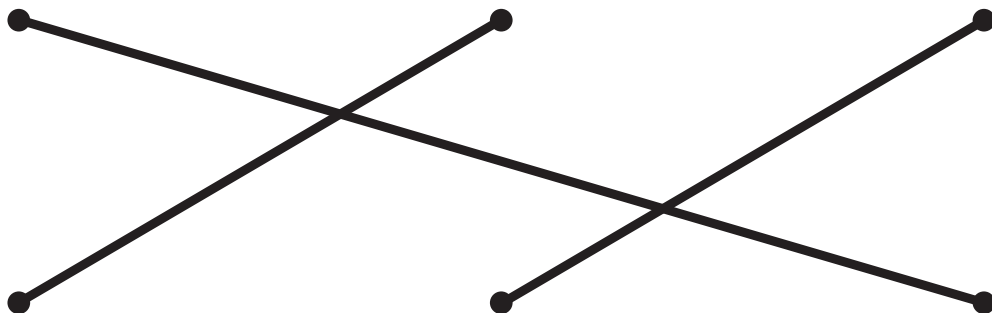
※とかが おおきいほうが おすだよ。



にわとりが
10わ います。
そのうち、おすは
8わです。
めすは なんわ
いるでしょう。

おすの にわとりが
6わ います。
めすの にわとりが
4わ います。
ちがいは
なんわでしょう。

にわとりが
10わ いました。
そのうち 3わが
こやに はいると、
のこりは
なんわでしょう。



6 - 4 =

10 - 3 =

10 - 8 =