

いちねん

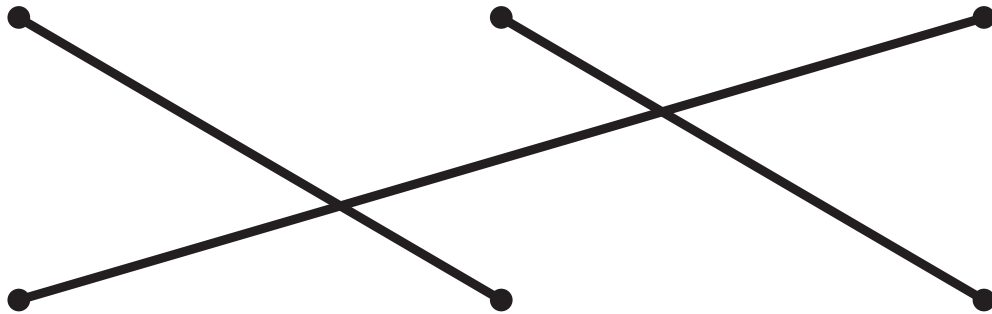
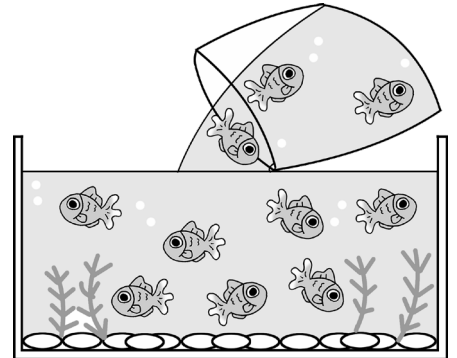
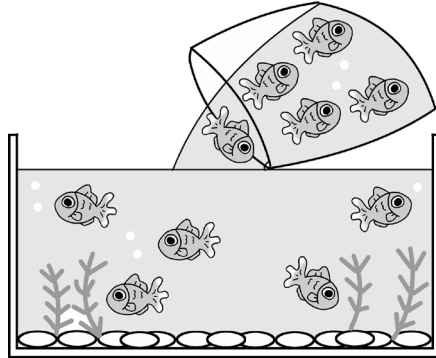

さんすう	たしざん	いちねん	なまえ
		くみ	

レンの うちでは、3つの すいそうで きんぎょを たくさん かって いるよ。



★えと えに あう もんだいと しきを それぞれ せんで むすぼう。むすんだら、けいさんの こたえを □に かいてね。

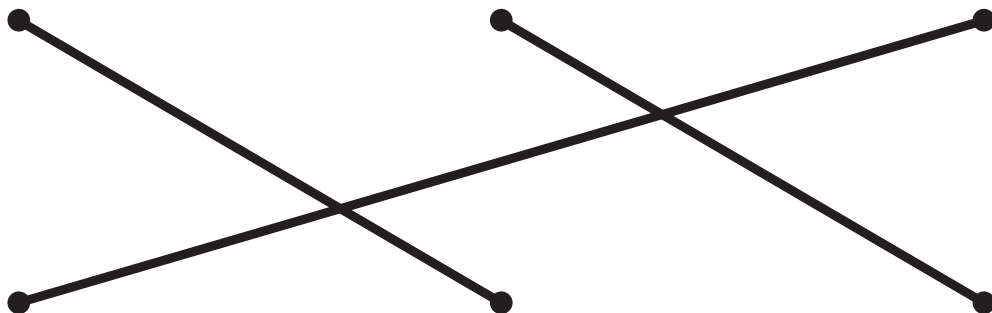
※体が黒いのが てめきんだよ。



きんぎょが 7ひき いました。そこへ 3ひき たしました。きんぎょは なんびき になったでしょう。

ふつうの きんぎょが 6ひき います。てめきんが 4ひき います。きんぎょは ぜんぶで なんびき いるでしょう。

きんぎょが 5ひき いました。そこへ 5ひき たしました。きんぎょは なんびき になったでしょう。



$5 + 5 = 10$

$7 + 3 = 10$

$6 + 4 = 10$