

4年


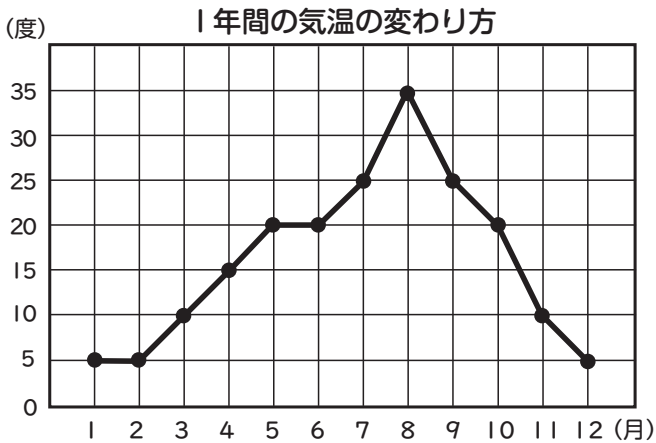
算数

お折れ線グラフの見方

4年 組

名前

①下の折れ線グラフは、ある市の1年間の気温の変わり方をしめしたものです。( )に当てはまる言葉や数を書きましょう。

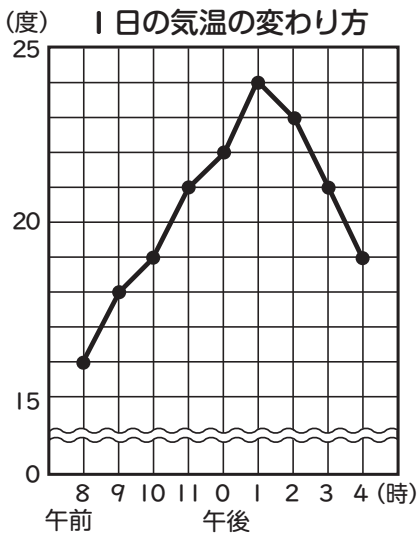


たてのじくは( )を表し、横のじくは( )を表しています。( )月から( )月までは気温が下がっています。

一番気温が高いのは( )度で、( )月です。10度なのは( )月と( )月です。7月の気温は( )度です。



②レンは1日の気温を調べました。折れ線グラフを見て、答えましょう。




1日の気温の変わり方

時	8	9	10	11	0	1	2	3	4
気温(度)	16								

- ①表の空いているマスに気温を書きましょう。
- ②午前8時と午後4時の気温のちがいは( )度です。
- ③午前8時と午後1時の気温のちがいは( )度です。

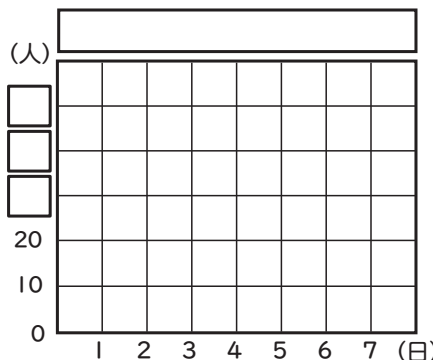

メモリのと中を〜を使ってはぶくことがあるよ。



③下の表は、図書館の1週間の利用人数です。表を見て、□に言葉や数を書きましょう。また、折れ線グラフをかきましょう。

1週間の利用人数

日にち(日)	1	2	3	4	5	6	7
人数(人)	20	40	30	50	20	10	30



たてのじくが人数になるよ。表題を書いてね。

