

3年

算数

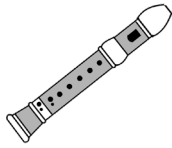
時こくと時間を考える

3年 組

名前

①ミオは9時30分からリコーダーを  
ふく練習を40分しました。  
ふき終わった時こくは、  
何時何分ですか。

( )




②きんたは朝ごはんを食べはじめた  
のが7時50分で、食べ終わった  
のが8時10分でした。  
食べ終わるまでにかかった時間は、  
何分ですか。

( )



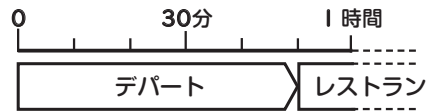
③レンは犬をつれてさんぽに行き  
ました。30分さんぽして、帰って  
きた時間は11時15分でした。  
出かけた時こくは、何時何分ですか。

( )



④かりんはお母さんと出かけました。  
デパートに50分いて、その後、  
レストランに30分いました。  
合わせて、何時間何分ですか。

( )



60分 = 1時間ね。



⑤①～⑤の□に当てはまる数を書きましょう。

① 95分 = □ 時間 □ 分      ② 2時間15分 = □ 分

③ 5分10秒 = □ 秒      ④ 110秒 = □ 分 □ 秒

⑤ 2時間25分と45分を合わせると、□ 時間 □ 分

1分 = 60秒ね。



⑥①～⑤の( )に当てはまる時間のたんいを書きましょう。

① テレビコマーシャルの時間 …… 15 ( )

② 1日のねる時間 …… 9 ( )

③ 学校の休み時間 …… 10 ( )

④ 100m 走るのにかった時間 … 20 ( )

⑤ 算数のじゅぎょうの時間 …… 45 ( )

秒      分      時間

