

3年

算数	同じ数に分ける計算	3年	組
		名前	

1 ①～⑤の□に当てはまる数を書きましょう。



- ① $2 \times \square = 18$ ② $7 \times \square = 28$
- ③ $12 \div 4$ の答えは、 $4 \times \square = 12$ の□の数です。
 $12 \div 4 = \square$
- ④ $30 \div 5 = \square$ ⑤ $72 \div 9 = \square$

(わり算)
 $24 \div 6 = 4$
 ↓ ↓
 わられる数 わる数





2 ①～③の式と答えを書きましょう。


① 18 このイチゴがあります。
 1 人に 3 こずつ分けると、
 何人に分けられますか。

式 ($18 \div 3 = 6$) 
 答え (6人) 

② ゼリーが 20 こあります。
 5 人で同じ数ずつ分けると、
 1 人分は何こになりますか。

式 ($20 \div 5 = 4$)
 答え (4こ) 
 ①も②もわり算の式になるね。 

③ ^{はこ}箱に入っているボールを
 4 人で同じ数ずつ分けます。
 1 人分は何こになりますか。

ア 8 こ入っているとき

 式 ($8 \div 4 = 2$)
 答え (2こ)

イ 4 こ入っているとき
 式 ($4 \div 4 = 1$)
 答え (1こ)

ウ 入っていないとき
 式 ($0 \div 4 = 0$)
 答え (0こ)



わられる数が0のときも、わり算にできるよ。

3 右のマスぜんの全体を 6 こに分けましょう。
 ただし、分けたそれぞれのブロックには
 1～5までの数字が1つずつ入ります。
 また、ブロックはどのような形でも
 かまいません。

こんなふうに分けてね！ 

1	3	1	2	3
4	2	1	5	4
5	4	3	2	5
1	3	2	5	4

1	1	2	4	3	2
5	5	5	4	3	1
3	4	2	2	3	1
3	4	1	5	5	4
5	4	1	3	2	2

※太線がヒントだよ。