



レンが 遠足の おかashiを 買いに 行ったよ。


★レンは 4しゅるいの おかashiの うち、2しゅるいを 1つずつ 買おうと しているよ。下の もんだいに 答えよう。



スナックがし
18円



チョコレート
32円



ガム
37円



ドーナツ
59円

① 50円で 買えるのは、どれと どれかな？

と

② 70円で 買える いちばん 高い 組み合わせは、どれと どれかな？

と

ひっ算を書いて
計算しよう。
