

二年

算数
さんずう

どれと どれを
か 買えるかな？


二年

くみ
組


名前
まえ

レンが 遠足の おかしの 買いに 行ったよ。


★レンは 4しゅるいの おかしの うち、2しゅるいを 1つずつ
か 買おうと しているよ。下の もんだいに 答えよう。



スナックがし
18円



チョコレート
32円



ガム
37円



ドーナツ
59円

① 50円で 買えるのは、どれと どれかな？

スナックがし と チョコレート

② 70円で 買える いちばん 高い 組み合わせは、どれと どれかな？

チョコレート と ガム

ひっ算を書いて
けいさん
計算しよう。

$$\begin{array}{r} | \\ \hline 18 \\ + 32 \\ \hline 50 \end{array}$$

$$\begin{array}{r} | \\ \hline 18 \\ + 37 \\ \hline 55 \end{array}$$

$$\begin{array}{r} | \\ \hline 18 \\ + 59 \\ \hline 77 \end{array}$$

$$\begin{array}{r} 32 \\ + 37 \\ \hline 69 \end{array}$$

$$\begin{array}{r} | \\ \hline 32 \\ + 59 \\ \hline 91 \end{array}$$

$$\begin{array}{r} | \\ \hline 37 \\ + 59 \\ \hline 96 \end{array}$$