

かいとう<sup>エス</sup>Sから少年<sup>しょう</sup>たんていのレンに、よこくじょう<sup>よこくじょう</sup>がとどいたよ！  
かいとう<sup>エス</sup>Sは何<sup>なに</sup>をねらっているのかな？



## よこくじょう

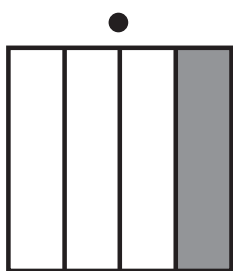
4つの<sup>ぶんすう</sup>分数と合う<sup>あ</sup>図<sup>ず</sup>をそれぞれ<sup>せん</sup>線でむすべ。  
あまった<sup>す</sup>図<sup>ず</sup>の下<sup>した</sup>のものをいただく。

$$\frac{1}{2}$$

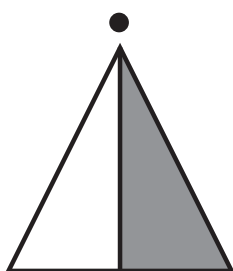
$$\frac{1}{3}$$

$$\frac{1}{4}$$


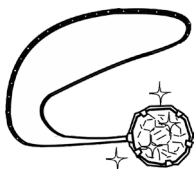
$$\frac{1}{8}$$



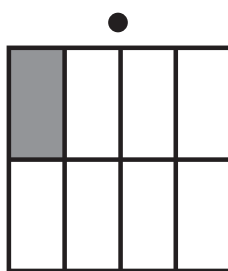
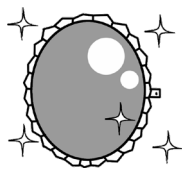
金の王かん



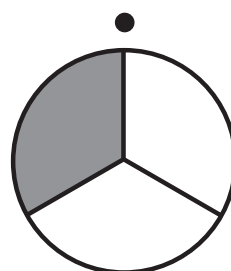
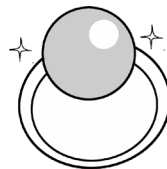
ダイヤの  
ペンダント



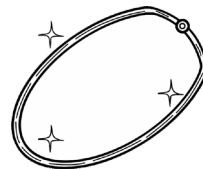
サファイアの  
ブローチ



しんじゅの  
ゆびわ



プラチナの  
ネックレス



かいとう<sup>エス</sup>Sがねらっているものがわかったら、  
その<sup>え</sup>絵を○でかこんでね。

