

3年

算数

重さのたんい

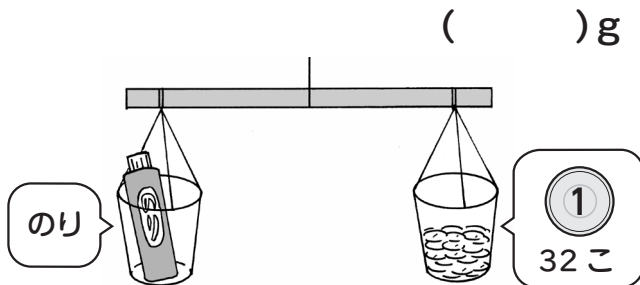
3年

組

名前

①①～③の( )に当てはまる数を  
書きましょう。

①のりの重さを調べたら、  
1円玉32こ分になりました。  
のりの重さは何gですか。

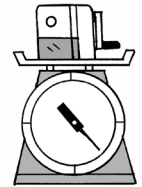
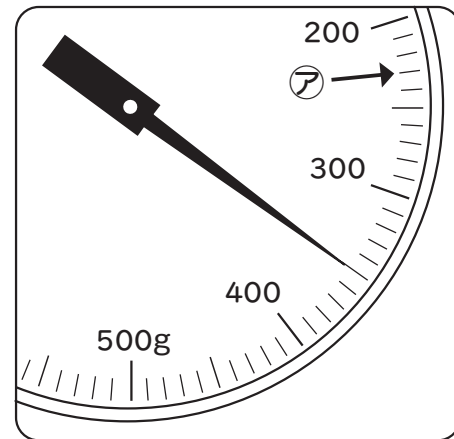


重さのたんいは  
g(グラム)で表し、  
1円玉1この重さは  
1gだよ。



②1円玉100この重さは( )g。  
③はさみの重さは1円玉24こ分  
でした。のりは、はさみより  
( )g重い。

②えんぴつけずりの重さを  
はかりで調べました。  
①～③に答えましょう。



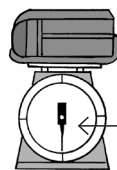
数直線を  
読むときと  
同じように  
考えてね。

①えんぴつけずりの重さは( )gです。  
②アのようにイ～オの重さを表す  
めもりに↑を書きましょう。  
ア 230g イ 270g ウ 330g  
エ 450g オ 540g  
③いちばん小さいめもりは何gを  
表していますか。( )g

③①～④の( )に当てはまる数を書きましょう。

① 2kg 500g = ( )g  
② 3kg 20g = ( )g  
③ 1700g = ( )kg ( )g  
④ 4020g = ( )kg ( )g

ランドセル 1kg 200g






1kg



重いものを表すたんい  
1000g = 1kg  
(キログラム)  
1000kg = 1t  
(トン)

④( )に当てはまる数を書きましょう。

 バイソン  
1400kg = ( )t ( )kg  
 ゾウアザシ  
4t 100kg = ( )kg  
 ジンベイザメ  
31000kg = ( )t



【おまけクイズ】

右のおもりの重さと同じになるように  
3このおもりをえらびましょう。

