

3年	算数	小数の計算	3年	組
			名前	

①～④の小数のたし算・ひき算をしましょう。

①


㊤  $0.9 + 0.1 = 1$

㊦  $0.4 + 0.5 = 0.9$


㊨  $1.6 + 0.2 = 1.8$

㊩  $0.8 - 0.5 = 0.3$

㊪  $1.6 - 0.3 = 1.3$



かりん



レン

②

㊫  $0.3 + 2 = 2.3$

㊬  $0.7 + 0.5 = 1.2$

㊭  $1 - 0.2 = 0.8$

㊮  $2 - 0.7 = 1.3$

㊯  $1.5 - 1 = 0.5$

㊰  $0.8 + 0.9 = 1.7$

③


㊱  $4.1 + 2.7 = 6.8$

㊲  $15 - 4.6 = 10.4$


㊳  $2.6 + 3.4 = 6$

㊴  $4.8 - 1.9 = 2.9$

㊵  $3.2 + 4.9 = 8.1$



ミオ



きんた

④

㊶ 
$$\begin{array}{r} 5.6 \\ + 2.8 \\ \hline 8.4 \end{array}$$

㊷ 
$$\begin{array}{r} 4.6 \\ + 3.4 \\ \hline 8 \end{array}$$

㊸ 
$$\begin{array}{r} 8.2 \\ - 3.7 \\ \hline 4.5 \end{array}$$

㊹ 
$$\begin{array}{r} 6.5 \\ + 2.9 \\ \hline 9.4 \end{array}$$

㊺ 
$$\begin{array}{r} 8 \\ - 2.4 \\ \hline 5.6 \end{array}$$

①～④それぞれの答えの小さいじゅんから、記号の文字を書きましょう。  
どんな食べ物になりますか。

- ① ( オムライス )    ② ( サンドイッチ )  
③ ( エビドリア )    ④ ( ハンバーグ )

