

3年

算数

小数と整数

3年 組

名前


① () に当てはまる言葉を□からえらんで記号を書きましょう。

0.7 や 1.8 や 32.5 のような数を (オ) と言い、「・」を (ア) と言います。

また、0 や 1 や 2 のような数を (ウ) と言います。

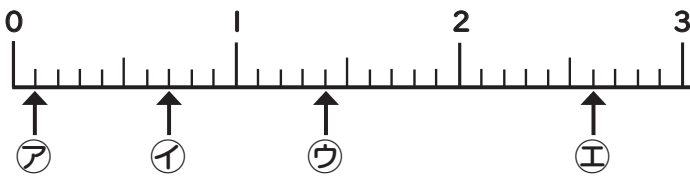
32.5 の 3 は十の位、2 は (イ) と言い、小数点のすぐ右の位を (エ) と言います。

3 2 . 5
(十の位) (?) (?)



ア 小数点 イ 一の位 ウ 整数 エ 小数第一位 オ 小数

② 下の数直線のア～エのめもりが表す数を小数で書きましょう。



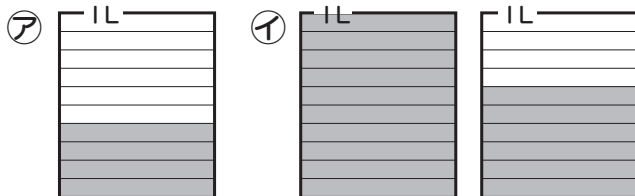
ア (0.1)
イ (0.7)
ウ (1.4)
エ (2.6)

0.1 を9こ集めた数は0.9だよ。



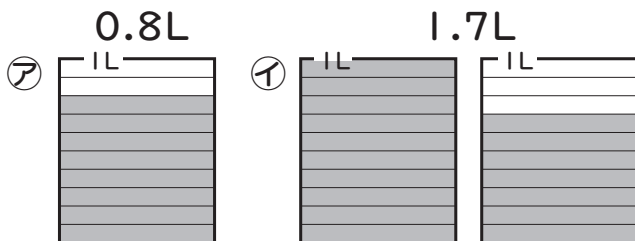
③ 1 L のますに水を入れました。

① アとイの水のかさを小数で書きましょう。



ア (0.4L) イ (1.6L)

② 水のかさだけ色をぬりましょう。



③ () に当てはまる数を書きましょう。

ア 2.5L = (2) L (5) dL

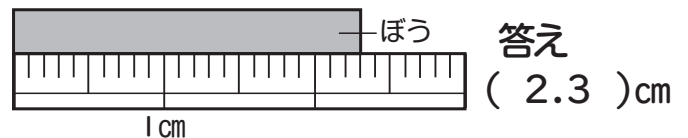
イ 3L7dL = (3.7) L

ウ 8L = (80) dL



④ ぼうの長さをはかりました。

① ぼうの長さは何cmですか。



答え

(2.3) cm

② () に当てはまる数を書きましょう。

ア 4 mm = (0.4) cm

イ 17cm 5 mm = (17.5) cm

ウ 6.3cm = (6) cm (3) mm



1 mm = 0.1 cm

⑤ □ に当てはまる不等号を書きましょう。

ア 0.4 > 0.3

イ 6.9 < 7.1

ウ 0.9 < 1



0.1 は 0 より大きいね。