

3年

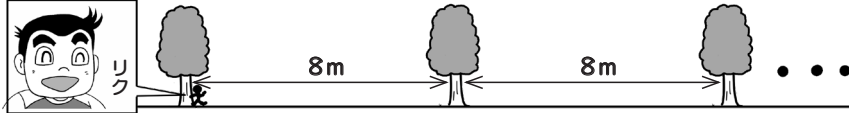
算数

間の数とそろばん

3年 組

名前

①道にそって8mごとに木が植えられています。
リクが1本目から7本目まで走りました。
リクは何m走りましたか。



式 ($8 \times 6 = 48$) 答え (48m)

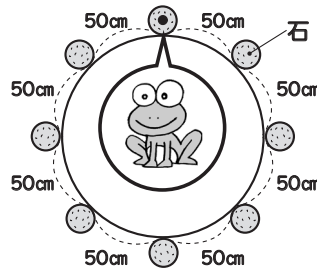


木と木の間の数を考えるよ。



リク

②円のまわりに石が50cmごとに8こならんでいます。
カエルが石から石へとびうつりながら1しゅうすると、何mのきよりを進むことになりますか。



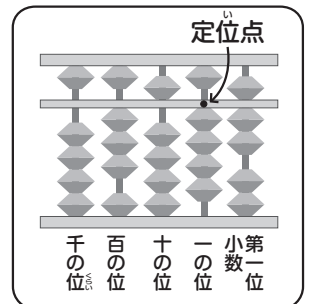
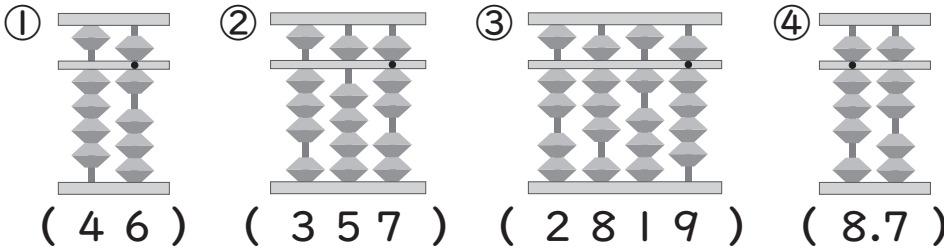
式 ($50 \times 8 = 400$ $400\text{cm} = 4\text{m}$) 答え (4m)

①の考え方がちがうね。

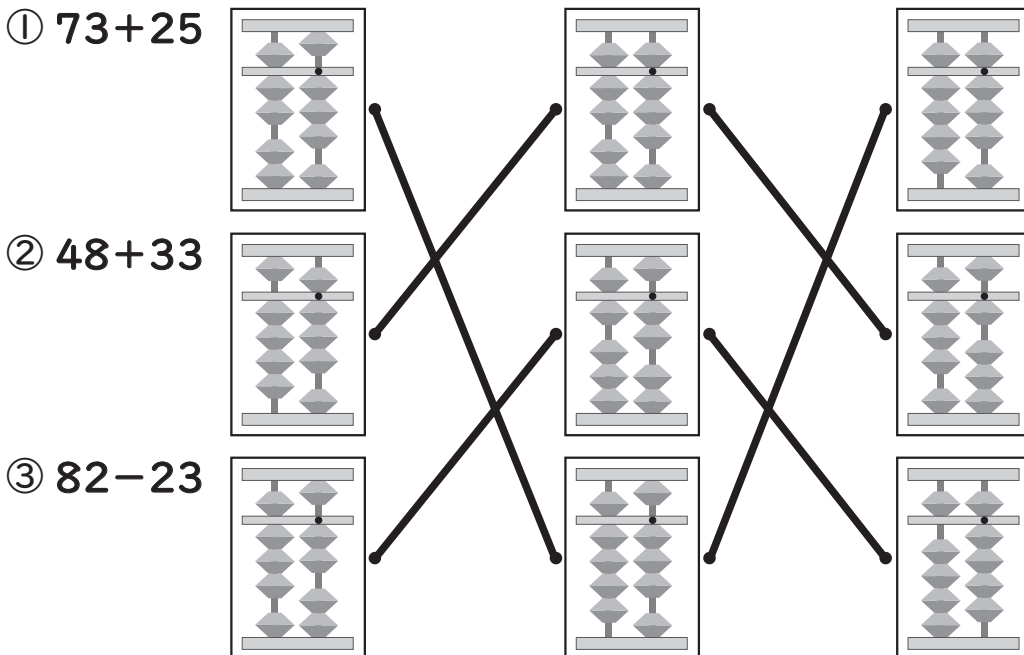


かりん

③そろばんに入れた数を書きましょう。



④そろばんでの計算が正しくなるように線でつなぎましょう。



定位点は一の位ね。

一番左のそろばんは、式のさいしょの数だね。



まん中は十の位をたした形で、一番右は一の位をたした答えだよ。