


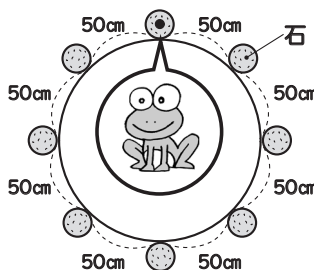
①道にそって8mごとに木が植えられています。
リクが1本目から7本目まで走りました。
リクは何m走りましたか。



式 () 答え ()



②円のまわりに石が50cmごとに8こならんでいます。
カエルが石から石へとびうつりながら1しゅうすると、何mのきよりを進むことになりますか。

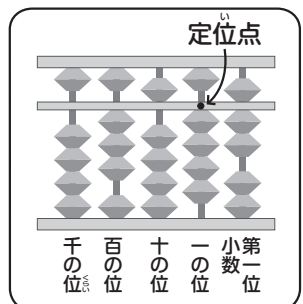
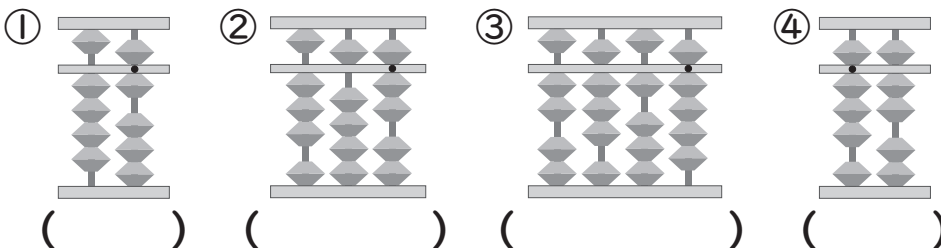


式 () 答え ()

①の考え方がちがうね。



③そろばんに入れた数を書きましょう。



④そろばんでの計算が正しくなるように線でつなぎましょう。

① $73+25$

② $48+33$

③ $82-23$



一番左のそろばんは、式のさいしょの数だね。



まん中は十の位をたした形で、一番右は一の位をたした答えだよ。