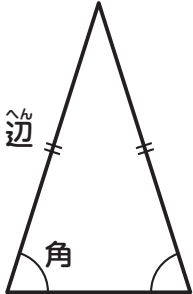


① () に当てはまる言葉を書きましょう。

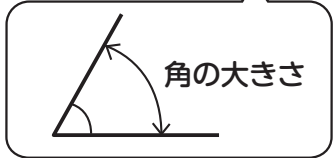
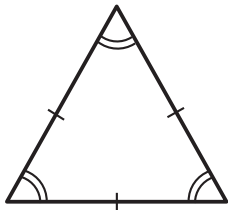

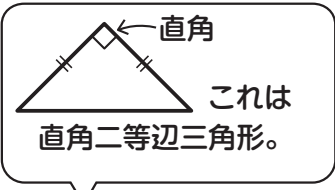


① 2つの^{へん}辺の長さが等しい三角形を () と言います。

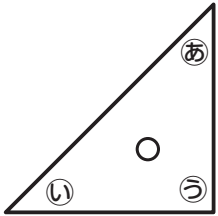
② 3つの辺の長さがどれも等しい三角形を () と言います。

③ 二等辺三角形では、2つの角の () が等しい。

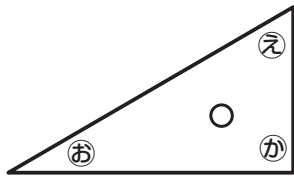
④ 正三角形では、() の角の大きさが等しい。



② 三角じょうぎの角の大きさについて答えましょう。



三角じょうぎは大きくても、小さくても、角の大きさは同じだよ。




① あのとうの角はどちらが大きいですか。 ()

② いの角とえの角はどちらが大きいですか。 ()

③ 直角になっている角はどこですか。 (.)

④ え～かの角の大きさを大きいじゅんに書きましょう。 (→ →)

③ 二等辺三角形には○を、正三角形には×を書きましょう。その他の三角形には何も書きません。



○と×をつけた三角形それぞれの記号をならべかえて、生き物の名前にしてね。どっちも大きいよ。



・二等辺三角形 — ア (陸)

・正三角形 — シ (海)