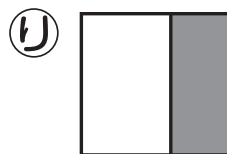

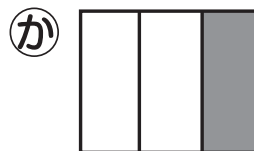
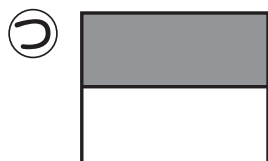
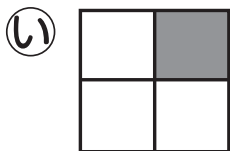
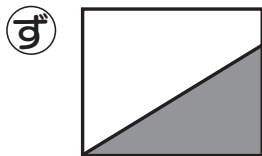
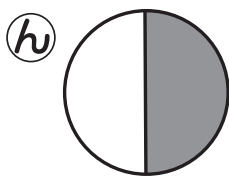
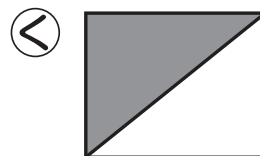
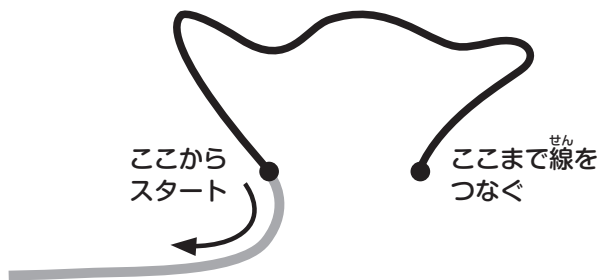



レンが、ミオからあんごうの手紙<sup>がみ</sup>をもらったよ。  
 ★ふくろの口から線<sup>せん</sup>をかいて、白いふぶん<sup>もと</sup>が元の大きさの $\frac{1}{2}$ になっている図<sup>ず</sup>だけをぜんぶふくろの中に入れよう。



★ふくろに入れた図<sup>ず</sup>の記<sup>き</sup>ごうをならべかえて書<sup>か</sup>こう。  
 まちあ<sup>あ</sup>わせ場<sup>ば</sup>しよがわかるよ。



|  |  |  |  |  |  |
|--|--|--|--|--|--|
|  |  |  |  |  |  |
|--|--|--|--|--|--|

に きて!