

二年

算数

図であらわそう

二年


くみ組

名前

レンたちがクッキーをやいて、食べているよ。

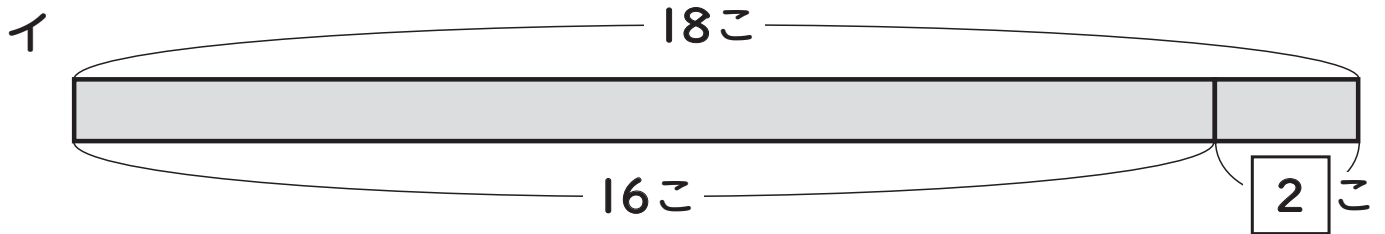
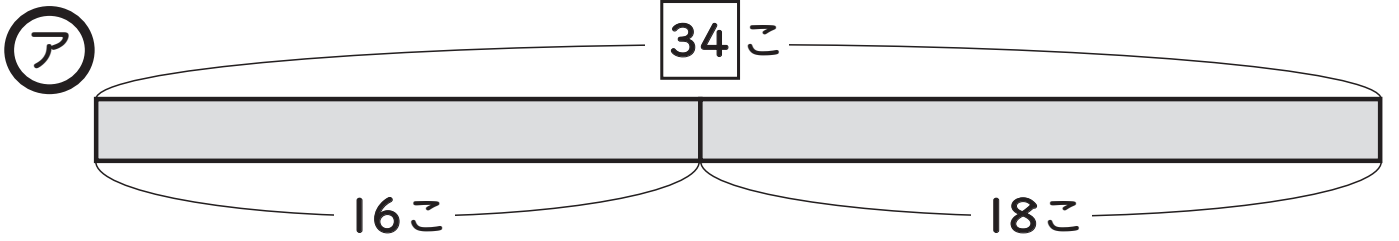
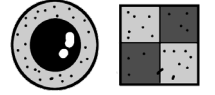
★もんだいに合う図はどちらかな？ 記ごうを○でかこもう。

また、しきを書いて、計算しよう。



①丸いクッキーが16こ、四角いクッキーが18こできました。

ぜんぶで何こあるでしょう。

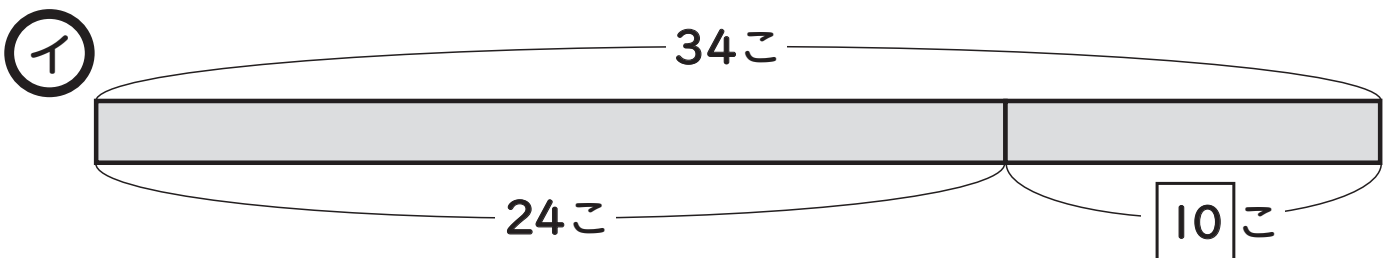
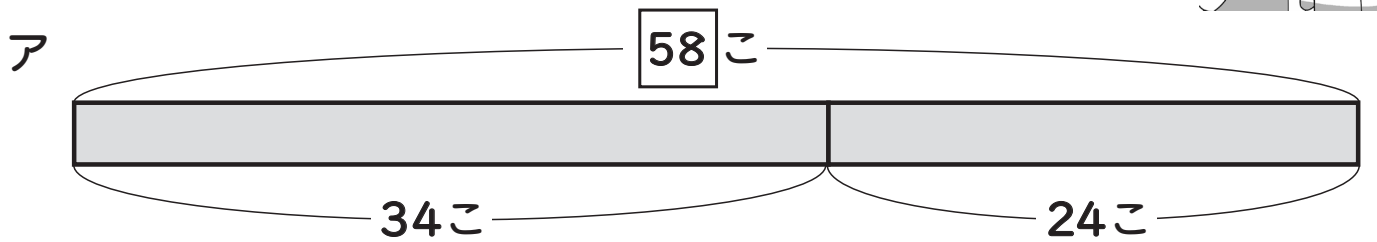


しき $16 + 18 = 34$

こたえ 34こ

②①でやいたクッキーのうち、24こをみんなて食べました。

何このこっているでしょう。



しき $34 - 24 = 10$

こたえ 10こ