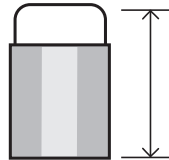



レンたちが、いろいろなものの^{なが}長さをはかったよ。

★たんいをまちがえている人が2人いるよ。その人を○でかこもう。

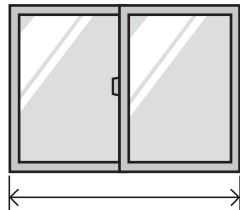
まちがえているたんいに×をして、その下に正しいたんいを書こう。

きんた



けしゴムの^{なが}長さは、
6cmだよ。

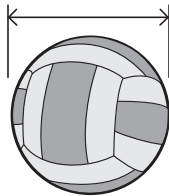
かりん



まどのはばは、
1cmだよ。

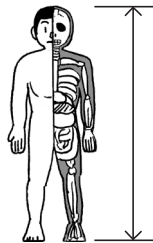


ミオ




ドッジボールの
大きさは、
180mmだよ。

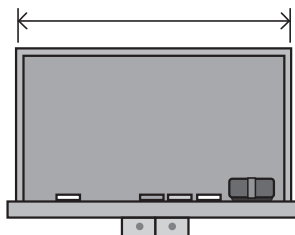
レン



人体もけいの^{たか}高さは、
1750mmだよ。



リク



黒ばんのはばは、
300mだぞ。