

二年

算  
数

なが  
長さのたんい

二年

くみ  
組

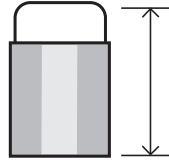

名  
前

レンたちが、いろいろなものの<sup>なが</sup>長さをはかったよ。

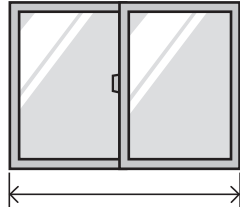
★たんいをまちがえている人が2人いるよ。その人を○でかこもう。

まちがえているたんいに×をして、その下に正しいたんいを書こう。

きんた



けしゴムの<sup>なが</sup>長さは、  
6cmだよ。

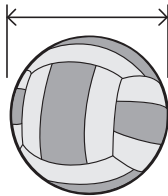


まどのはばは、  
1~~×~~だよ。  
m

かりん

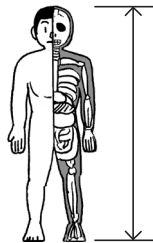


ミオ




ドッジボールの  
大きさは、  
180mmだよ。

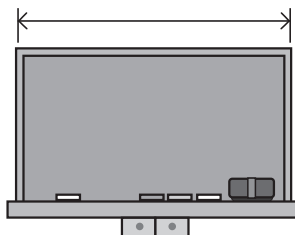
レン



人体もけいの<sup>たか</sup>高さは、  
1750mmだよ。



リク



黒ばんのはばは、  
300~~×~~だぞ。  
cm