

5年

算数

速さ・道のり・時間

5年

組

名前


- ① バショウカジキという魚が泳ぐと、  
3時間で270km進みます。  
このときの時速を求めましょう。  
また、分速と秒速をmで求めましょう。

(時速) 式 ( ) 答え ( )  
(分速) 式 ( ) 答え ( )  
(秒速) 式 ( ) 答え ( )



1時間 = 60分  
1分 = 60秒


速さ = 道のり ÷ 時間  
速さは、時速や分速や秒速で表すよ。



時速を分速にするには60でわるといいね。

- ② ① ツバメが時速60kmで3時間進むと、道のりは何kmになりますか。

式 ( ) 答え ( )



- ② 秒速12mで走る自動車が、4分走ると何m進みますか。

式 ( ) 答え ( )



道のり = 速さ × 時間



分を秒にしてね。



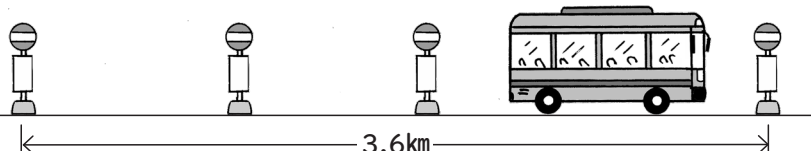
- ③ ① 時速25kmで進む台風が、400km進むのにかかる時間は何時間ですか。

式 ( ) 答え ( )



- ② 分速600mのバスが、3.6km進むのにかかる時間は何分ですか。

式 ( ) 答え ( )



時間 = 道のり ÷ 速さ



3.6kmは何mかな。

