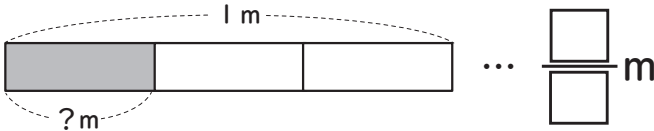



①～③の□に答えを書きましょう。

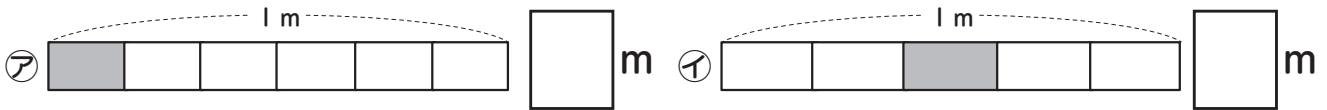
① ① 1 m のテープを 3 等分した 1 こ分の長さは何 m ですか。



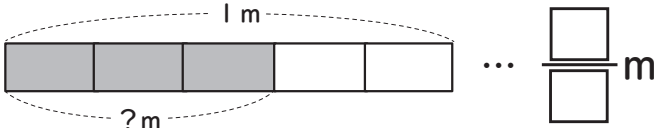
$\frac{1}{3}$ m が
3 こで
1 m に
なるね。



② 下のアイの色をぬった部分の長さは何 m ですか。



② ① 1 m を 5 等分した 3 こ分の長さは何 m ですか。



ほかの長さでも
同じように
表せるね。

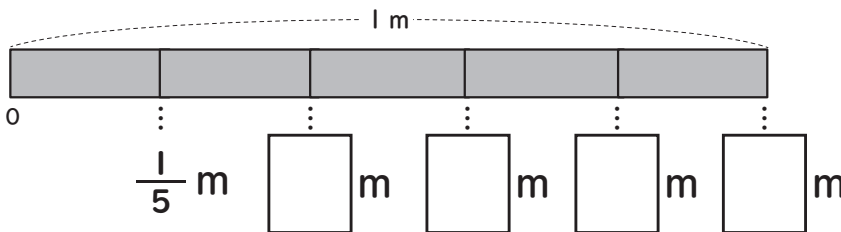


$\frac{3}{5}$ m は、 $\frac{1}{5}$ m の □ こ分の長さです。

② 下のアイの長さの分だけ左はしから色をぬりましょう。



③ □ に当てはまる数字を書きましょう。

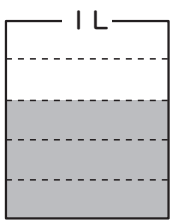


$\frac{5}{5}$ m は 1 m だね。



$\frac{4}{5}$ m は、 $\frac{3}{5}$ m
より長いね。

③ 水を 1 L ますではかったら、左下の図のようになりました。



① 1 L のますの 1 めもりは □ L です。

② 水のかさは、
1 めもりの □ こ分で □ L です。

長さと同じように
かさも何等分の
何こで表せるよ。



③ $\frac{1}{3}$ や $\frac{2}{5}$ のような数を □ と言います。
その下の部分を □ といい、上の部分を □ と言います。