

3年

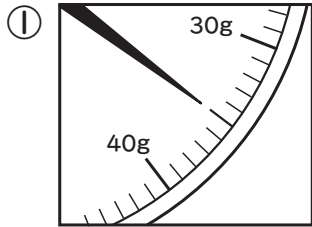
算数

重さをくらべよう

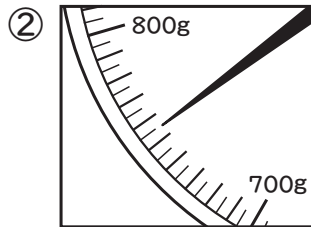
3年 組

名前

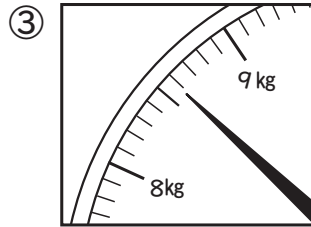
①①～③のはりのさしている重さを書きましょう。




35 g



755 g



8 kg 600 g



1円玉1この重さは1g。1000gは1kgだね。

②①～⑥の□に当てはまる重さを書きましょう。

① 1円玉 15 こは 15 g

② 1円玉 200 こは 200 g

③ 2kg 400g は 2400 g

④ 4080g は 4 kg 80 g

⑤ 3kg 30g は 3030 g

⑥ 1700g は 1 kg 700 g

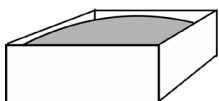


③ ①重さ 400g の箱に重さ 1kg 300g のにもつを入れると、全体の重さは何kg何gですか。

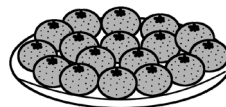
②重さ 300g の入れ物にみかんを入れたら、1kg 150g の重さになりました。みかんの重さは何gですか。

式 ($400g + 1kg\ 300g = 1kg\ 700g$)

式 ($1kg\ 150g - 300g = 850g$)



答え (1kg 700g)



答え (850g)

④□に当てはまる重さを書きましょう。



キリン

1300kg = 1 t 300 kg



セイウチ

2t 100kg = 2100 kg



シロサイ

4030kg = 4 t 30 kg

1 t は 1000kg ね。



1000g = 1kg
1000kg = 1t



⑤()に当てはまる重さのたんい g・kg・t を書きましょう。

①教科書 1冊 - 200 (g)


②アフリカゾウ - 6 (t)

③子ども 1人 - 29 (kg)

④子どものカバ - 1000 (kg)

⑤ジンベエザメ - 30 (t)

⑥ランドセル - 1 (kg) 200 (g)



ジンベエザメ



きんた