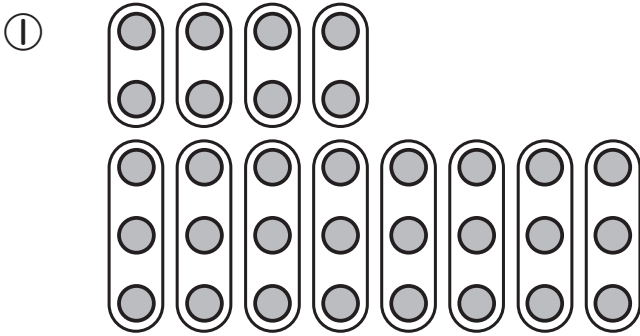




算数 さんずう	九九をつかって もとめよう!	二年	くみ 組	名前 まえ
------------	-------------------	----	---------	----------

レンたちが、おはじきでいろいろな形を作ったよ。

★それぞれおはじきを何こつかったのかな？ 九九をつかってもとめよう。

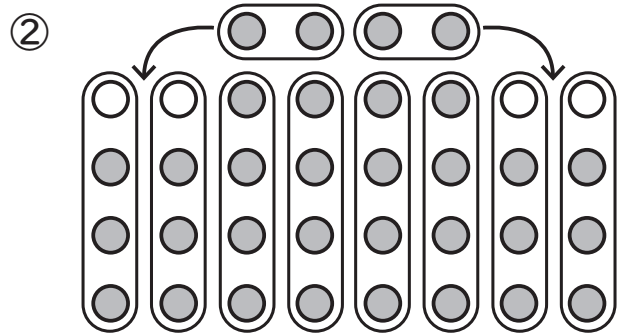


(れい)

しき $2 \times 4 = 8$
 $3 \times 8 = 24$
 $8 + 24 = 32$



こた
答え 32 こ

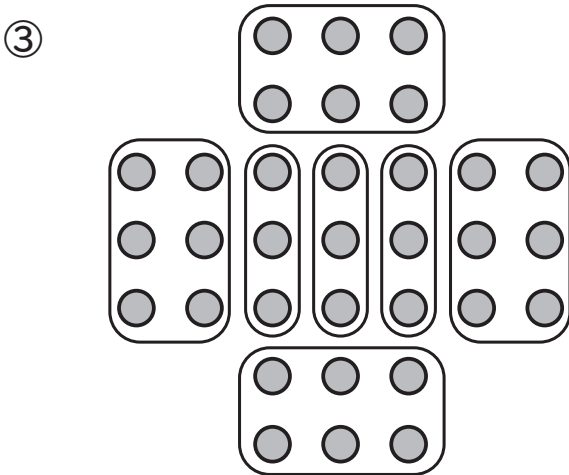


(れい)

しき $4 \times 8 = 32$



こた
答え 32 こ

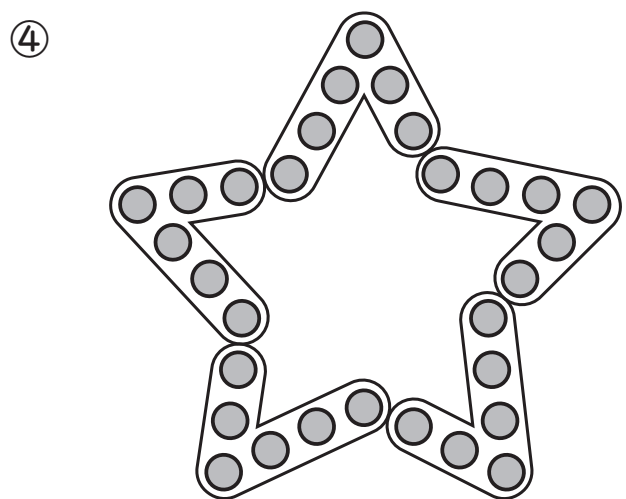


(れい)

しき $6 \times 4 = 24$
 $3 \times 3 = 9$
 $24 + 9 = 33$



こた
答え 33 こ



(れい)

しき $6 \times 5 = 30$



こた
答え 30 こ

※しきはほかにもあるよ。いろいろな九九のしきを作ってみよう。