

5年

算数

比べ方を考えよう

5年

組

名前

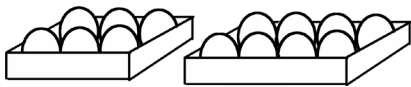
① 6個で120円のとまごと10個で180円のとまごでは、どちらのねだんが高いといえますか。1個あたりのねだんを求めて比べましょう。

6個で120円のとまご…式 ()

1個あたり ()


10個で180円のとまご…式 ()

1個あたり ()



答え ()

1個あたりのねだんがわかると、どちらが高いかわかるね。



レン

ねだん ÷ 個数 =
1個あたりのねだん

② 下のA～Cの果しゅ園のうち、りんごのとれぐあいがいちばんよかったのは、どの果しゅ園ですか。1㎡あたりのりんごの量(kg)を求めて比べましょう。

果しゅ園A

果しゅ園B

果しゅ園C

面積 40㎡
りんご 880kg

面積 50㎡
りんご 930kg

面積 100㎡
りんご 1800kg



比べる場所が何か所でも、1㎡あたりの量がわかると、比べられるね。

果しゅ園A…式 () 1㎡あたり ()

果しゅ園B…式 () 1㎡あたり ()

果しゅ園C…式 () 1㎡あたり ()

答え ()



かりん

③ 2つのうさぎ小屋のこみぐあいを比べます。

① 1㎡あたりのうさぎの数は、それぞれ何びきですか。

A…式 () 答え ()

B…式 () 答え ()


② 1ぴきあたりの面積はそれぞれ何㎡ですか。

A…式 () 答え ()

B…式 () 答え ()



③ Aのうさぎ小屋とBのうさぎ小屋ではどちらがこんでいますか。 答え ()

A
6㎡
9ひき



①と②どちらで計算してもわかるね。

B
5㎡
8ひき



ミオ

わりきれないときは、四捨五入して上から2けたのがい数にしてね。

