

3年

算数

1より小さい数を考える

3年 組

名前

① ① 1Lのますに水を入れました。
アとイの水のかさを小数で
書きましょう。



② □に当てはまる数を書きましょう。

ア 0.1を9こ集めたかさは L

イ 0.1を10こ集めたかさは L

ウ 4L7dL = L

エ 3.5L = L dL

オ 6L = dL

1dLは
0.1L

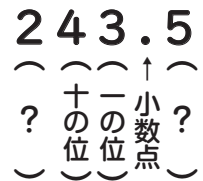


② ()に当てはまる言葉を書きましょう。

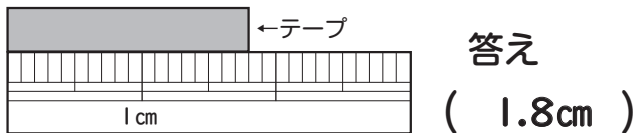
1.3や0.8のような数を(小数)と言
い、「.」を(小数点)と言いま
す。また、0・1・2・3のよ
うな数を(整数)と言いま
す。



243.5の2の位は
(百の位)と言
い、
小数点のすぐ右の位を
(小数第一位)と
言いま
す。



③ ① 下のテープの長さは何cmですか。



1 mm = 0.1 cm

② □に当てはまる数を書きましょう。

ア 4 cm 7 mm = cm

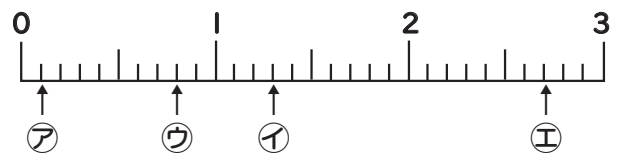
イ 5.6 cm = cm mm

ウ 8 mm = cm

エ 7.6 cmは 0.1 cmの こ分

オ 0.1 cmが こで 6 cm

④ 下の数直線のア～エのめもりが
表す数を、小数で書きましょ
う。



① ア (0.1) イ (1.3) ウ (0.8)
エ (2.7)

② 大きいじゅんに記号を書きましょ
う。
(エ) → (イ) → (ウ) → (ア)

③ □に当てはまる不等号を
書きましょ
う。

ア 0.6 < 0.7

イ 7.2 > 6.8

ウ 2 > 0.8



0.1は
0より
大きい
ね。