

レンたちがクッキーをやいて、ふくろに入れているよ。

★それぞれの話と合うかけ算のしきを線でむすぼう。

星がたのクッキーを3こずつ6ふくろに入れたよ。
星がたのクッキーはぜんぶでなんこかな？

丸いクッキーを2こずつ8ふくろに入れたわ。
丸いクッキーはぜんぶでなんこかしら？


四角いクッキーを5こずつ3ふくろに入れたぞ。
四角いクッキーはぜんぶでなんこかな？

ハートがたのクッキーを4こずつ5ふくろに入れたよ。
ハートがたのクッキーはぜんぶでなんこかな？


レン




ミオ



リク



かりん



●
 5×3

●
 2×8

●
 3×6

●
 4×5

★いちばん多いクッキーを○でかこもう。

