

二年

算数  
さんずう

かけ算  
ざん

二年

くみ  
組

名前  
まえ

レンたちがクッキーをやいて、ふくろに入れているよ。

★それぞれの話と合うかけ算のしきを線でむすぼう。


ほし  
星がたの  
クッキーを  
3こずつ  
6ふくろに  
入れたよ。  
ほし  
星がたの  
クッキーは  
ぜんぶで  
なんこかな？

まる  
丸い  
クッキーを  
2こずつ  
8ふくろに  
入れたわ。  
まる  
丸い  
クッキーは  
ぜんぶで  
なんこかしら？

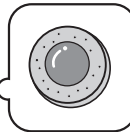
かく  
四角い  
クッキーを  
5こずつ  
3ふくろに  
入れたぞ。  
かく  
四角い  
クッキーは  
ぜんぶで  
なんこかな？

ハートがたの  
クッキーを  
4こずつ  
5ふくろに  
入れたよ。  
ハートがたの  
クッキーは  
ぜんぶで  
なんこかな？

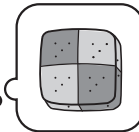
レン



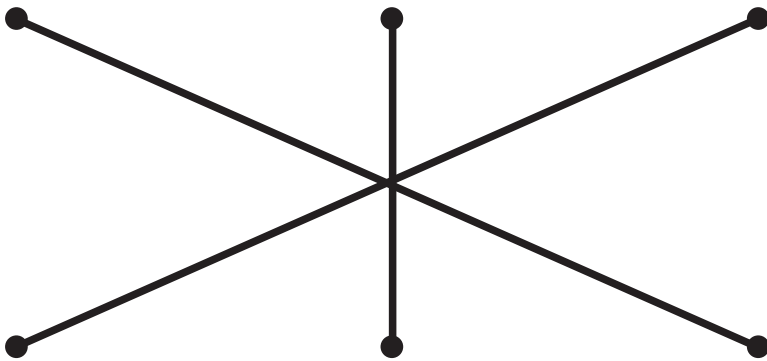

ミオ



リク



かりん



$5 \times 3 = 15$

$2 \times 8 = 16$

$3 \times 6 = 18$

$4 \times 5 = 20$

★いちばん多いクッキーを○でかこもう。

