

資料の調べ方

6年 組 名前

Aさん、Bさん、Cさんの16日目から18日目までの3日間の練習の結果は、下のようになりました。このデータを加えたなら、クラスの代表者として誰を選ばよいかと考えますか。その理由も書きましょう。

A (m)

①	40	②	33	③	42	④	50	⑤	44	⑥	24	⑦	27	⑧	55
⑨	36	⑩	52	⑪	30	⑫	46	⑬	18	⑭	40	⑮	43		
⑯	49	⑰	54	⑱	50										

B (m)

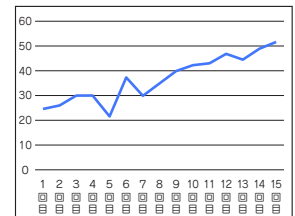
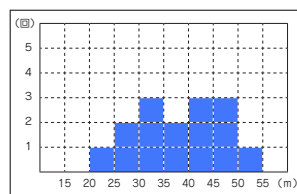
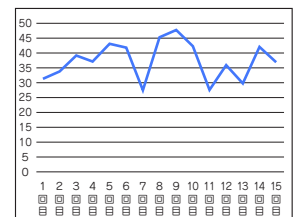
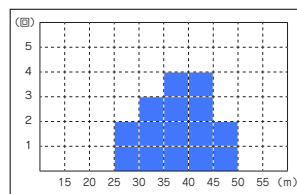
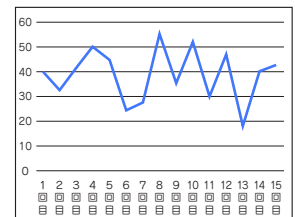
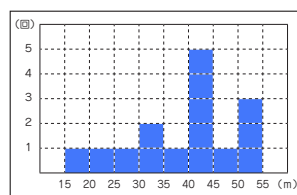
①	32	②	34	③	39	④	37	⑤	43	⑥	42	⑦	27	⑧	45
⑨	47	⑩	42	⑪	28	⑫	36	⑬	30	⑭	42	⑮	37		
⑯	48	⑰	48	⑱	49										

C (m)

①	25	②	26	③	30	④	30	⑤	22	⑥	37	⑦	30	⑧	35
⑨	40	⑩	43	⑪	44	⑫	47	⑬	45	⑭	49	⑮	52		
⑯	50	⑰	54	⑱	51										

〈資料〉

	A	B	C
最大値 (m)	55	47	52
最小値 (m)	18	27	22
平均値 (m)	38.7	37.4	37.0
最ひん値 (m)	40	42	30
中央値 (m)	40	37	37
45m 以上の割合 (%)	26.6	13.3	33.3



代表者に選べばよい選手は、 () さん

〈その理由〉