

かいとう<sup>エス</sup>から、こっとう<sup>てん</sup>ひん店によこくじょうがとどいたよ。

## よこくじょう

今夜、3000mLの水がちょうど入る  
つぼをいただく。

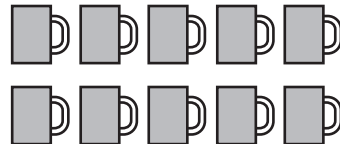
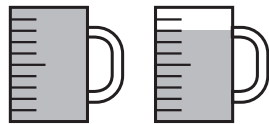
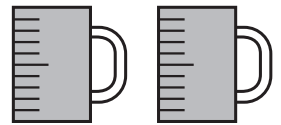
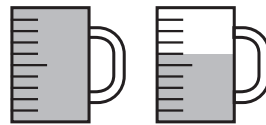

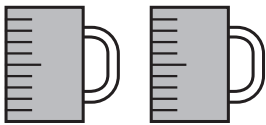
かいとう<sup>エス</sup>



店<sup>みせ</sup>につぼは4つあったよ。どのつぼがねらわれているのかな？

★1L入るます<sup>と</sup>と、1dL入るます<sup>を</sup>をつかって、つぼに入る水かさを

しらべたよ。□に水のかさを書こう。1Lますの1目もりは1dLだよ。







★かいとう<sup>エス</sup>がねらっているつぼを○でかこもう。