

二年

算数
さんずう

水のかさ

二年

くみ
組

名前
まえ

かいとう^{エス}から、こつとう^{てん}ひん店によこくじょうがとどいたよ。

よこくじょう

今夜、3000mLの水がちょうど入る
つぼをいただく。

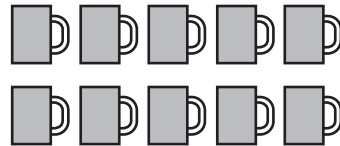
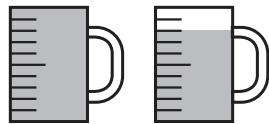
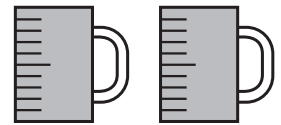
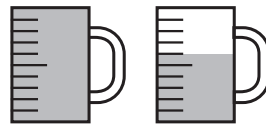

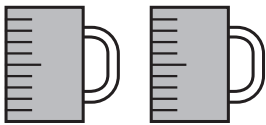
かいとう^{エス}



店につぼは4つあったよ。どのつぼがねらわれているのかな？

★1L入るます  と、1dL入るます  をつかって、つぼに入る水かさを

しらべたよ。□に水のかさを書こう。1Lますの1目もりは1dLだよ。



2 L 4 dL

3 L 8 dL

3 L

3 L 5 dL

★かいとう^{エス}がねらっているつぼを○でかこもう。