

5年

算数

図形の角

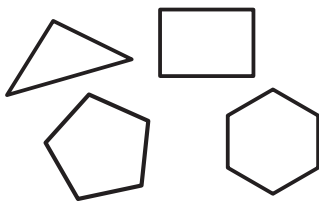
5年 組

名前

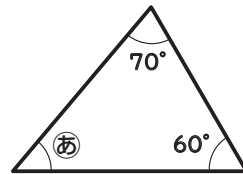
①①・②の□に当てはまる数字や言葉を書きましょう。

①三角形の3つの角の大きさの和は □ 度です。

②5本の直線で囲まれた図形を □ と言い、6本の直線で囲まれた図形を □ と言います。これらのように、直線で囲まれた図形を □ と言います。



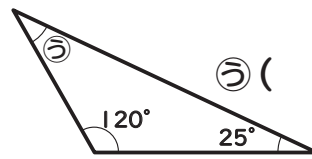
②あ～えの角度は何度ですか。計算で求めましょう。



あ ()

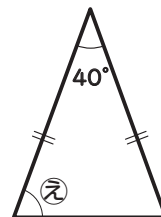


い ()



う ()

二等辺三角形



え ()

何度からひくといいのかな。



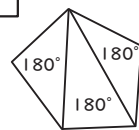
③下の表に当てはまる数字を書きましょう。

	三角形	四角形	五角形	六角形
角の大きさの和	180°			

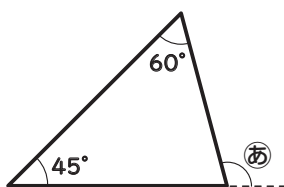
三角形1こ

三角形2こ

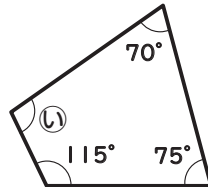
五角形は三角形3個に分けられるね。



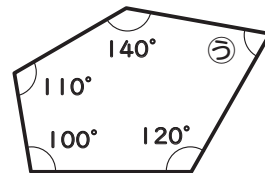
④あ～かの角度は何度ですか。計算で求めましょう。



あ ()



い ()

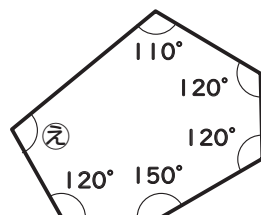


う ()

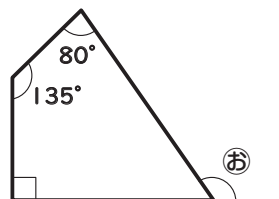
三角形の2つの角度から書こう。



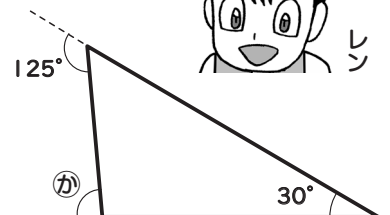
③の表を参考にね。



え ()



お ()



か ()