


1 32 まいのくだもののカードがあります。

① 1列ずつ見ながら「正」の字を使って、アの表にそれぞれの数を書きましょう。



1は 一
2は 二
3は 下
4は 正
5は 正



ア

りんご	
なし	
いちご	
かき	

② アの表の正の字を数字に直して、右のイの表に書きましょう。

合計で数が合っているかかくにんできる。



イ すきなくだもの

りんご	
なし	
いちご	
かき	
合計	

「正」の字ならば速く正かくに数を記ろくできるわ。

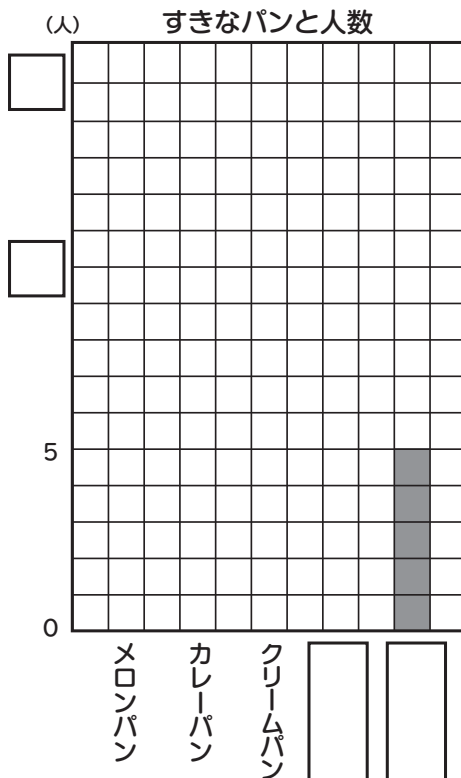



2 50人の友だちにすきなパンを聞いて、表にしました。

これを多いじゅんにぼうグラフに表し、□に数字や名前を入れましょう。

すきなパンと人数

あげパン	8
カレーパン	12
メロンパン	15
食パン	5
クリームパン	10
合計	50



ぼうの長さで数の大きさを表したグラフを、ぼうグラフと言うよ。



多い少ないがわかりやすいね。

① ぼうグラフのたてのメモリは何を表していますか。 ()

② 1メモリは何人を表していますか。 ()

③ ぼうグラフの上の文字を何と言いますか。 ()