

5年





算数

小数の筆算

5年 組

名前

スタートからマスの指示にしたがって進みましょう。止まったマスの計算をしましょう。0を消すところは\を書きましょう。最後に着くのはだれでしょう。 答え

スタート	$\begin{array}{r} 3.1 \\ \times 4.7 \\ \hline \end{array}$	$\begin{array}{r} 5.24 \\ \times 1.5 \\ \hline \end{array}$	$\begin{array}{r} 4.2 \\ \times 2.5 \\ \hline \end{array}$	1.90は1.90 
	2マス進む	3マス進む	3マス進む	
0.3の0は消さないわ。 	$\begin{array}{r} 6.16 \\ \times 7.5 \\ \hline \end{array}$	$\begin{array}{r} 8.4 \\ \times 5.1 \\ \hline \end{array}$	$\begin{array}{r} 0.18 \\ \times 3.4 \\ \hline \end{array}$	
	3マス進む	4マスもどる	4マス進む	
	$\begin{array}{r} 2.46 \\ \times 6.8 \\ \hline \end{array}$	$\begin{array}{r} 4.92 \\ \times 7.5 \\ \hline \end{array}$	$\begin{array}{r} 33.5 \\ \times 5.8 \\ \hline \end{array}$	小数点の位置を まちがえないでね。 
	2マス進む	3マス進む	4マスもどる	
ぼくに着くかな？ 	$\begin{array}{r} 9.88 \\ \times 7.5 \\ \hline \end{array}$	$\begin{array}{r} 0.32 \\ \times 2.9 \\ \hline \end{array}$	$\begin{array}{r} 5.85 \\ \times 6.3 \\ \hline \end{array}$	
	1マスもどる	2マスもどる	2マス進む	