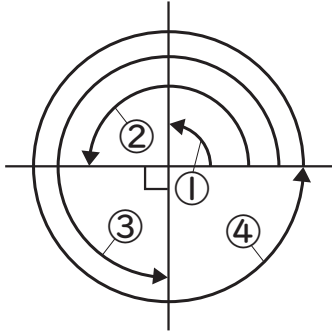


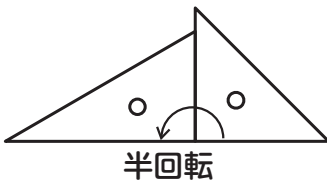
①①～④の角度を()に書き
 ましょう。



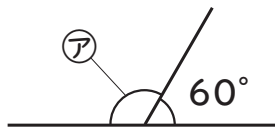
- ① ()
- ② ()
- ③ ()
- ④ ()

下の()に数字を書きましょう。

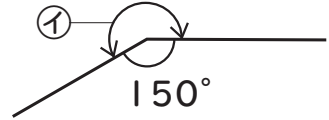
②のように半回転したときの角の
 大きさは(2)直角で、
 ④のように回転したときの
 大きさは(4)直角です。



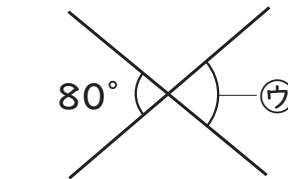
②ア～エの角度は何度ですか、
 ()に書きましょう。



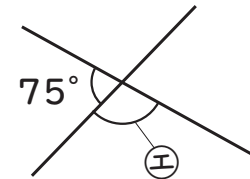
ア()



イ()



ウ()



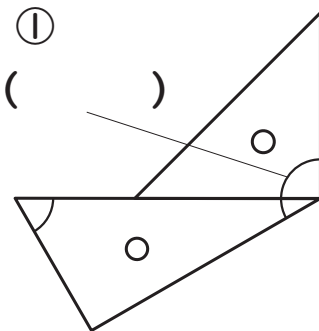
エ()

イは 360°
 から考える
 といいね。

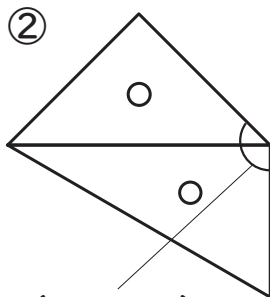


ほかは
 180°から
 考えてね。

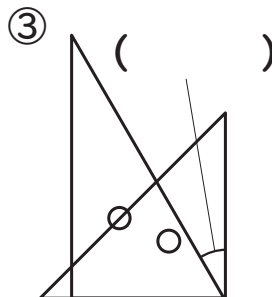
③ 1組の三角じょうぎを組み合わせ、角を
 つくりました。①～⑤の角度を()に書き
 ましょう。



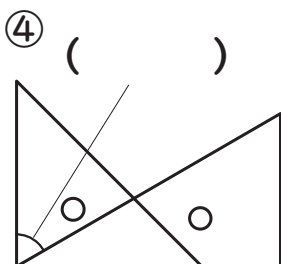
①
 ()



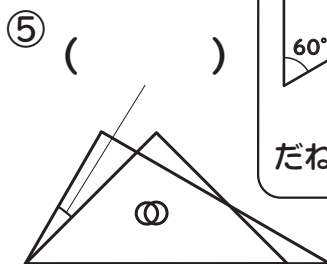
②
 ()



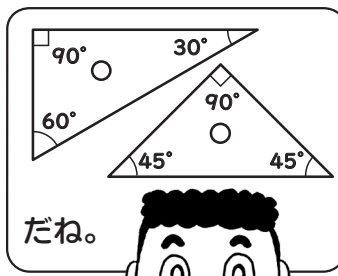
③
 ()



④
 ()



⑤
 ()




だね。



【おまけのクイズ】

時計は1時30分です。
 ()に答えを書きましょう。



2本のはりてできる小さい
 ほうの角度は()で、
 大きいほうの角度は
 ()です。

短しんは
 90°の半分
 のところね。

