


①①～③の計算をして、答えを□に書きましょう。

① $180 \div 9$ □ $\div 4$ □ $\div 4$ □ $\times 4$ □ $\times 2 =$ □

(れい) 20×8 □ $\times 20$ □ $\div 5$ □ $\div 8$

10や100をもとにして考えてね。




かりん

② $480 \div 2$ □ $\times 5$ □ $\times 6$ □ $\div 4$ □ $\div 2 =$ □

□ $\div 3$ □ $\div 2$ □ $\div 3$ □ $\div 10$

最後の答えは1けただ。




きんた

③ $3600 \div 9$ □ $\times 6$ □ $\times 3$ □ $\times 6$ □ $\div 10 =$ □

□ $\div 5$ □ $\div 8$ □ $\div 9$ □ $\div 3$

まずは0を考えずに計算するわ。



ミオ


②かけ算のピラミッドです。上の問題①の①～③の最後の答えを①～③の○に書き入れましょう。その後で空いている○に数字を書き入れましょう。

(れい) $8 = 2 \times 4$

32000

80

一番上の数をその下の段の数でわるよ。



しん

1600000

50

① ② ③

※①の①の最後の答えを入れる。