

4年

算数

つなげて計算しよう

4年 組


名前

①①～③の計算をして、答えを□に書きましょう。

① $180 \div 9$ $160 \div 4$ $800 \div 4$ 40×4 $20 \times 2 = 40$

(れい) 20×8 40×20 $200 \div 5$ $160 \div 8$

10や100をもとにして考えてね。




かりん

② $480 \div 2$ 80×5 200×6 $400 \div 4$ $10 \div 2 = 5$

$240 \div 3$ $400 \div 2$ $1200 \div 3$ $100 \div 10$

最後の答えは1けただ。




きんた

③ $3600 \div 9$ 80×6 60×3 20×6 $40 \div 10 = 4$

$400 \div 5$ $480 \div 8$ $180 \div 9$ $120 \div 3$

まずは0を考えずに計算するわ。



ミオ

②かけ算のピラミッドです。上の問題①の①～③の最後の答えを①～③の○に書き入れましょう。その後で空いている○に数字を書き入れましょう。

(れい) $8 = 2 \times 4$

32000

400 80

① 40 10 8

② 8 5 2 ③ 4


1600000

2000 800

① 50 40 20

② 5 10 ③ 4 5

一番上の数とその下の段の数でわるよ。



レシ

※①の①の最後の答えを入れる。