

3年

算数

かける数・かけられる数

3年 組

名前

① 2のだんのかけ算の表について答えましょう。

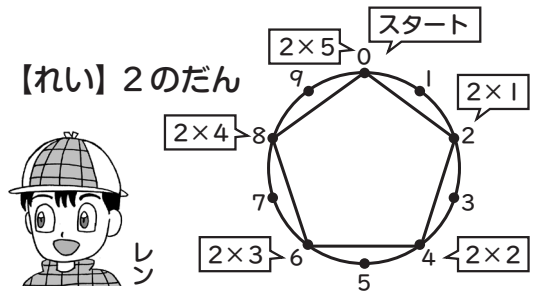
① 空いているマスに数字を書きましょう。

(かける数)	1	2	3	4	5	6	7	8	9
(かけられる数)	2	2	6	8		12	14		18

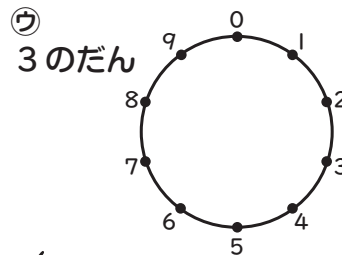
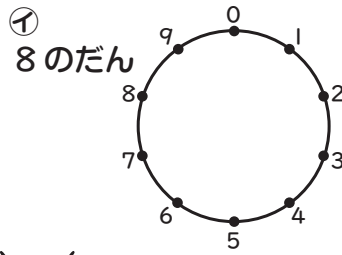
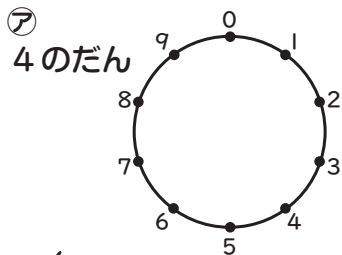
② かける数が1ふえると、かけ算の答えはいくつ大きくなりますか。 答え()

③ 【れい】にならって、ア～ウの図に、九九の答えの1の位の数字を点でつなぎましょう。

0からスタートして、九九の答えの1の位の数字がある点をつないでいくよ。0になったらおわるゲームだよ。(2・4・6・8・10)
1の位



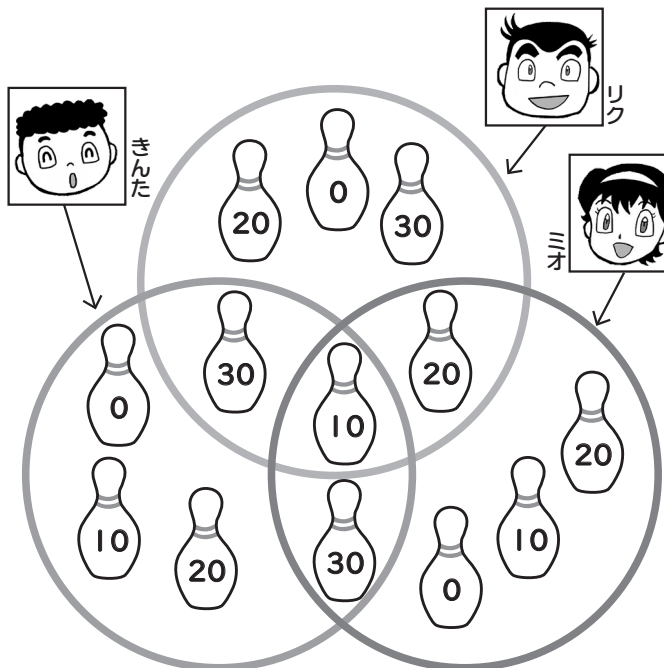
ア～ウの()に0になるまでの九九の答えを書きましょう。



同じ形になるのもあるから、ほかのだんもやってみてね。
かりん

() () ()

② 3人でなげなわゲームをしました。①～⑥の()にとく点をもとめる式と答えを書きましょう。ピンの数字は点数です。



- ① きんたの0点ピンのとく点
式() 答え()
- ② きんたの10点ピンのとく点
式() 答え()
- ③ きんたの20点ピンのとく点
式() 答え()
- ④ きんたの30点ピンのとく点
式() 答え()
- ⑤ きんたの合計とく点
式() 答え()
- ⑥ だれが一番とく点をとりましたか。
名前ととく点を書きましょう。
名前() とく点()