

二年

算数

とけい 時計

二年

くみ組

名前



レンが かいとう<sup>エス</sup>を おいかけて いるよ!

★下の 時計の 時こくは、午前9時から 午後6時の 間だよ。  
午前か 午後を ○で かこんで、時こくを 書こう。  
書けたら、時こくの 早い じゅんに めいろを すすんでね。

レン





スタート



午前  午後 9 時 45 分



午前  午後 3 時 42 分



午前  午後 10 時 3 分

午前  午後 1 時 24 分

午前  午後 4 時 18 分



午前  午後 11 時 57 分

午前  午後 5 時 30 分

ゴール



かす<sup>エス</sup>カ<sup>ス</sup>