


かけ算 (2)

2年 組 名前

〈もんだい〉

はこの中のチョコレートはぜんぶで何こありますか。




〈かだい〉 きれいにならなくてもかけ算がつかえるか、いろいろなもとめ方を考えよう。

〈自分の考え〉


しきを書こう

図であらわすと……




しきを書こう

図であらわすと……



しきを書こう

図であらわすと……



自分の考えや友だちの考えでにているところはどこかな？

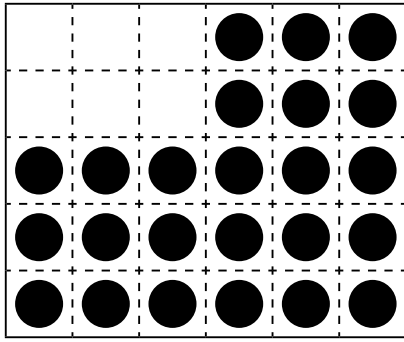
考えが4こい上見つかったら、うらに書いておこう！

〈まとめ〉

〈ふりかえり〉

図であらわすと……

しきを書こう



図であらわすと……

しきを書こう

