


12このレンガを使って、クラスの花だんを作ろう。

4年 組 名前

12このレンガの置き方

ルール①ななめには、つながない。

ルール②花だんの中を区切らない。



周りの長さが同じだったら、
広さも同じなのかな。

広さのくらべ方を考えよう。

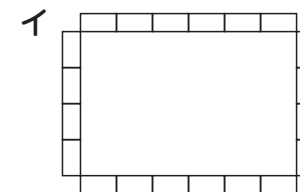
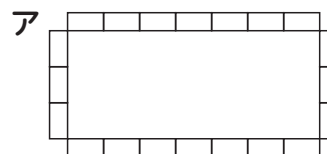
どうやって、くらべましたか？

自分の考えや友達のことをふり返って、便利だった考え方は何ですか？



上の考え方を使ったら、ほかの
広さも比べられますか？

20このレンガ、どちらの花だんが広いかわかれば方を説明しましょう。



感想
