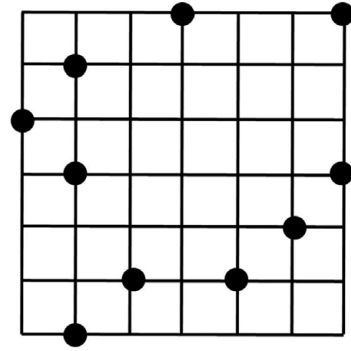


A

上の中から、4つの点
を選んで、

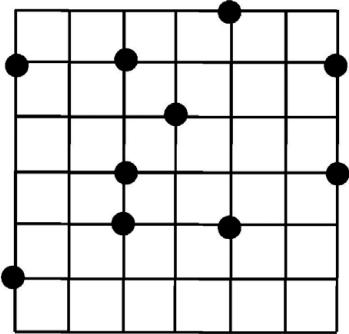
へいこうしへんけい
「平行四辺形」
を作れるかな！



B

上の中から、4つの点
を選んで、

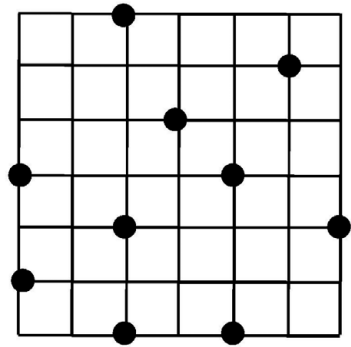
だいけい
「台形」
を作れるかな！



C

上の中から、4つの点
を選んで、

ちやうほうけい
「長方形」
を作れるかな！





D


上の中から、4つの点
を選んで、

がた
「ひし形」
を作れるかな！



<table border="1" style="width: 100%; height: 100%; border-collapse: collapse;"><tr><td></td><td></td><td></td><td></td><td></td></tr><tr><td></td><td></td><td></td><td></td><td></td></tr><tr><td></td><td></td><td></td><td></td><td></td></tr><tr><td></td><td></td><td></td><td></td><td></td></tr><tr><td></td><td></td><td></td><td></td><td></td></tr></table>																													
																													

<table border="1" style="width: 100%; height: 100%; border-collapse: collapse;"><tr><td></td><td></td><td></td><td></td><td></td></tr><tr><td></td><td></td><td></td><td></td><td></td></tr><tr><td></td><td></td><td></td><td></td><td></td></tr><tr><td></td><td></td><td></td><td></td><td></td></tr><tr><td></td><td></td><td></td><td></td><td></td></tr></table>																													
																													

<table border="1" style="width: 100%; height: 100%; border-collapse: collapse;"><tr><td></td><td></td><td></td><td></td><td></td></tr><tr><td></td><td></td><td></td><td></td><td></td></tr><tr><td></td><td></td><td></td><td></td><td></td></tr><tr><td></td><td></td><td></td><td></td><td></td></tr><tr><td></td><td></td><td></td><td></td><td></td></tr></table>																													
																													

<table border="1" style="width: 100%; height: 100%; border-collapse: collapse;"><tr><td></td><td></td><td></td><td></td><td></td></tr><tr><td></td><td></td><td></td><td></td><td></td></tr><tr><td></td><td></td><td></td><td></td><td></td></tr><tr><td></td><td></td><td></td><td></td><td></td></tr><tr><td></td><td></td><td></td><td></td><td></td></tr></table>																													
