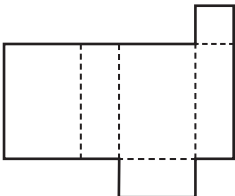
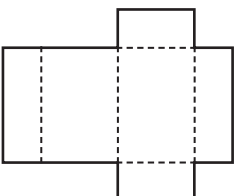
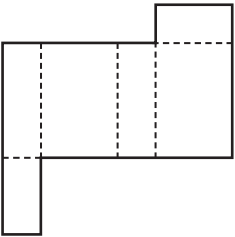


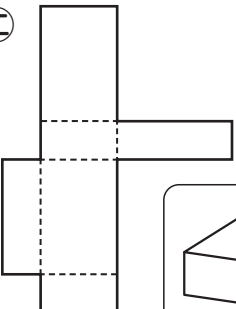
() に答えを書きましょう。

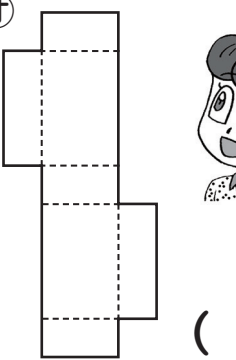
① 直方体の正しい展開図をすべて記号で書きましょう。

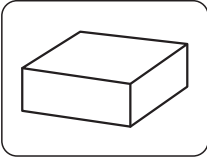
ア 


イ 

ウ 

エ 

オ 

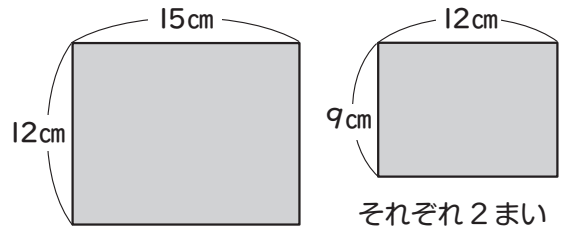





かじん

答え ()

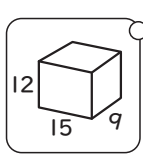
② 直方体を作るために
下のような長方形の板を
2まいずつ作りました。




あとは、2つの辺の長さが
() cmと() cmの
長方形の板を()まい
作るとできるね。



ミオ

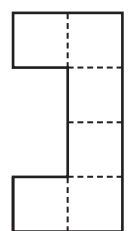


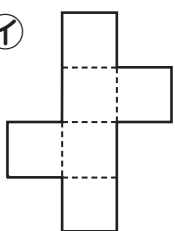
12 15 9

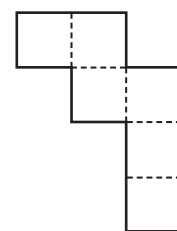


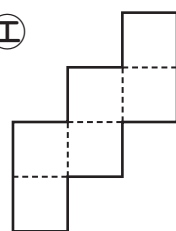
きんた

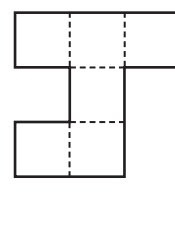
③ 立方体の正しい展開図をすべて記号で書きましょう。

ア 

イ 

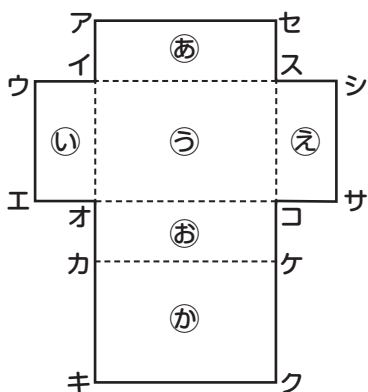
ウ 

エ 

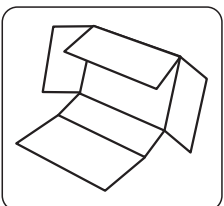
オ 


答え ()

④ 下の展開図からできる直方体について答えましょう。



- ① 辺カキと重なる辺は ()
- ② 頂点クと重なる2つの頂点は () と ()
- ③ 面㊦と平行な面は ()
- ④ 面㊦と垂直な4つの面は ()





レン