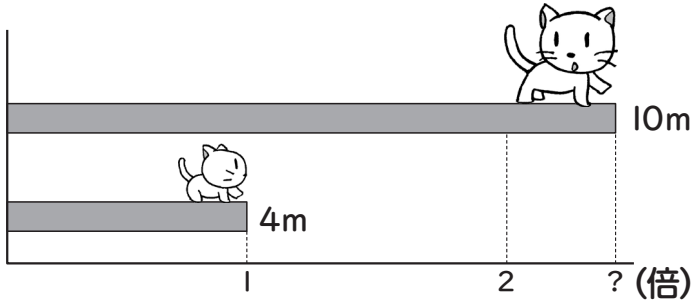


問題の式と答えを ( ) に書きましょう。


① 親ネコが 10m 進むとき  
子ネコは 4m 進みます。  
親ネコの進んだきよりは  
子ネコの進んだきよりの  
何倍ですか。



式 ( ) 答え ( )


② くだもの屋さんでみかんが  
160こ売れて、  
りんごが 50こ売れました。  
みかんが売れた数は  
りんごの数の何倍ですか？

式 ( )  
答え ( )



③ S町にある A山の高さは  
2560m で、となりの B山の  
高さは 1600m です。  
A山の高さは、B山の高さの  
何倍ですか？

式 ( )  
答え ( )



④ 4人で動物を集めるゲームをしました。



ぼくは  
27ひき  
集めたよ。

① レンが集めた数は  
かりんの数の何倍ですか。  
式 ( ) 答え ( )



わたしは  
6ひき  
だったわ。

② きんたが集めた数は  
かりんの数の何倍ですか。  
式 ( ) 答え ( )



ぼくは  
21ひき  
集めたよ。

③ かりんが集めた数は  
ミオの数の何倍ですか。  
式 ( ) 答え ( )



わたしは  
12ひき  
だったわ。

