

レンたちが、子ども会で4しゅるいのクッキーを、それぞれ1しゅるいずつくばったよ。だれがどのクッキーをくばったのか、分かるかな？

★4人の話と、それぞれのクッキーのところをよく読んで、だれがどのクッキーをくばったのか考えよう。分かったら、線でむすんでね。

4まいずつ  
入ったふくろを  
6ふくろ  
くばったよ。



かりん

5まいずつ  
入ったふくろを  
5ふくろ  
くばったよ。



レン

6まいずつ  
入ったふくろを  
5ふくろ  
くばったよ。

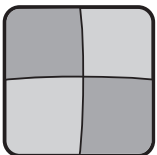


ミオ


7まいずつ  
入ったふくろを  
4ふくろ  
くばったぞ。



リク



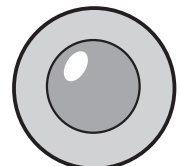
くばる前は  
54まいあったよ。  
くばったら、  
24まいになった。



くばる前は  
72まいあったよ。  
くばったら、  
44まいになった。



くばる前は  
32まいあったよ。  
くばったら  
8まいになった。



くばる前は  
67まいあったよ。  
くばったら  
42まいになった。