

二年

算数
さんずう

くばったのは
どのクッキー

二年

くみ
組

名前
まえ

レンたちが、子ども会で4しゅるいのクッキーを、それぞれ1しゅるいずつくばったよ。だれがどのクッキーをくばったのか、分かるかな？

★4人の話と、それぞれのクッキーのところをよく読んで、だれがどのクッキーをくばったのか考えよう。分かったら、線でむすんでね。

4まいずつ
入ったふくろを
6ふくろ
くばったよ。

$(4 \times 6 = 24)$

5まいずつ
入ったふくろを
5ふくろ
くばったよ。

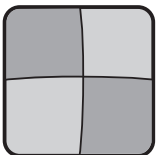
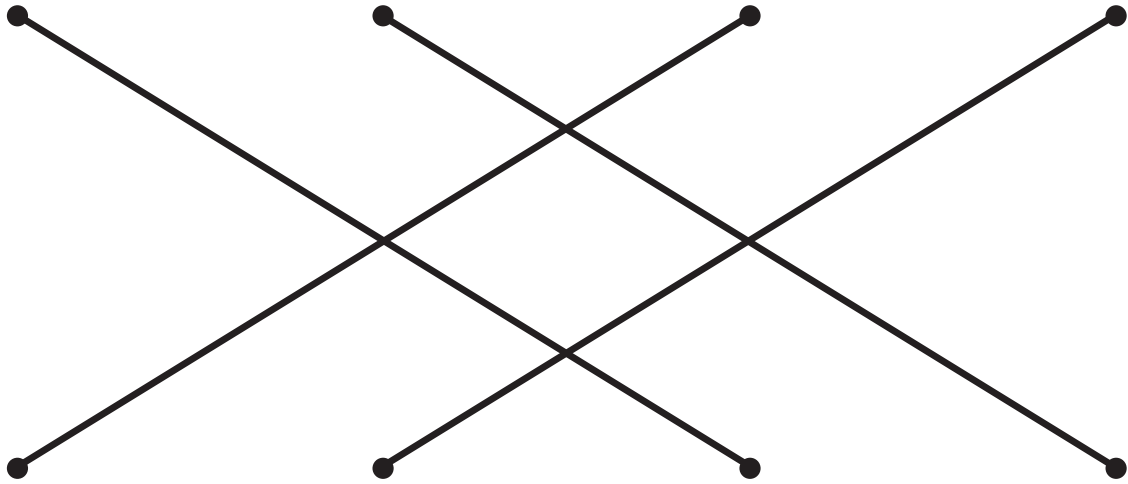
$(5 \times 5 = 25)$

6まいずつ
入ったふくろを
5ふくろ
くばったよ。

$(6 \times 5 = 30)$


7まいずつ
入ったふくろを
4ふくろ
くばったぞ。

$(7 \times 4 = 28)$



くばる前は
54まいあったよ。
くばったら、
24まいになった。

$(54 - 24 = 30)$



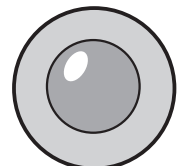
くばる前は
72まいあったよ。
くばったら、
44まいになった。

$(72 - 44 = 28)$



くばる前は
32まいあったよ。
くばったら
8まいになった。

$(32 - 8 = 24)$



くばる前は
67まいあったよ。
くばったら
42まいになった。

$(67 - 42 = 25)$