

3年

算数

倍の計算

3年

組

名前

①～⑤の式と答えを書きましょう。

①



きんた

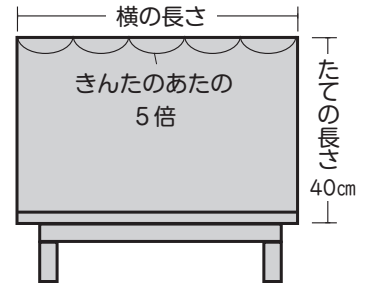
きんたのあたは 12cmです。  
つくえの横の長さは、きんたの  
あたの 5 倍です。  
つくえの横の長さは何cmですか。



あた  
12cm

式

答え

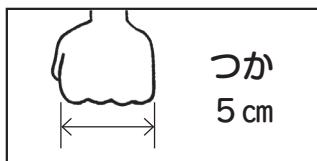


②



かりん

かりんのつかは 5cmです。  
つくえのたての長さは 40cmです。  
つくえのたての長さはかりんの  
つかの何倍ですか。



つか  
5cm

式

答え

昔はこれらの長さを「あた」「つか」と言ったよ。



③

リクは雪玉を 18 こ、  
きんたは 9 こ作りしました。  
リクはきんたの何倍作った  
でしょう。



リク

式

答え

⑤

かりんはミオの 6 倍の  
48 まいの色紙をもって  
います。



かりん

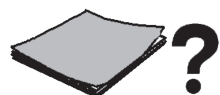


ミオ

ア ミオのもっている色紙の  
まい数を□として  
かけ算の式にしましょう。

式

イ ミオのもっている色紙は  
何まいですか。



答え

④

かきが 9 こあります。くりは  
かきの 4 倍の数があります。  
くりの数は何こですか。



9こ

式

答え